

**BAHAGIAN A**

**Bulatkan jawapan yang betul.**

1. Air, udara, makanan dan \_\_\_\_\_ merupakan keperluan asas manusia.

- A. tempat perlindungan
- B. cahaya matahari
- C. kenderaan
- D. pakaian

2. Udara diperlukan oleh manusia untuk

- A. membesar
- B. bernafas
- C. berlindung dari cuaca yang buruk
- D. membersihkan diri

3. Rajah 1 menunjukkan sejenis makanan.



Rajah 1

Makanan pada Rajah 1 berkhasiat sebagai

- A. memberi tenaga
- B. membantu tumbesaran
- C. menjaga kesihatan
- D. mencantikkan badan

4. Ammar hendak memelihara burung. Apakah keperluan asas yang perlu disediakan oleh Ammar?

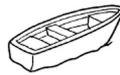
A.



B.



C.



D.



5. Rajah 2 menunjukkan seekor haiwan.



Rajah 2

Manakah antara haiwan yang berikut boleh dikelaskan bersama haiwan pada Rajah 2?

- A. Lembu
- B. Singa
- C. Kucing
- D. Katak

6. Saya seekor haiwan berkaki dua. Saya makan tumbuhan dan haiwan lain. Saya tinggal di dalam reban. Siapakah saya?

A.



B.



C.



D.



7. Maklumat yang berikut merupakan senarai semak tentang penjagaan pokok, **kecuali**

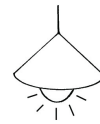
- A. Siram setiap hari.
- B. Letak di kawasan gelap.
- C. Letak di kawasan yang mendapat cahaya matahari.
- D. Letak di tempat yang terbuka.

8. Muslim menanam sebatang pokok dan menyiramnya setiap hari namun dia mendapati

pokoknya mati beberapa hari kemudian. Apakah faktor yang menyebabkan pokoknya mati?

- A. Siram setiap hari
- B. Siram dengan air yang banyak setiap hari.
- C. Letak di tempat yang terbuka.
- D. Letak di kawasan yang mendapat cahaya matahari.

9. Rajah 3 menunjukkan sebuah objek.



Rajah 3

Objek pada Rajah 3 adalah

- A. sumber inspirasi
- B. sumber makanan
- C. sumber cahaya
- D. sumber kekuatan

10. Semua yang berikut merupakan sumber cahaya, **kecuali**

- A. lampu suluh


- B. lilin  
C. bateri  
D. matahari
11. Cahaya penting kepada manusia untuk
- A. bernafas  
B. menyanyi  
C. menulis  
D. melihat
12. Bayang-bayang terhasil apabila
- A. cahaya tidak dapat menembusi objek.  
B. cahaya dapat menembusi objek.  
C. tiada cahaya.  
D. cuaca panas.
13. Berikut ialah haiwan yang makan haiwan lain, **kecuali**
- A. katak  
B. labah-labah  
C. belalang  
D. cicak
14. Manusia mengalami beberapa perubahan semasa tumbesaran. Perubahan-perubahan tersebut adalah
- A. Saiz, hobi dan berat.  
B. Saiz, suara dan ketinggian.  
C. Saiz, berat dan ketinggian.  
D. Saiz, rupa dan berat.
15. Tumbuhan mengalami proses tumbesaran dari segi
- A. Ketinggian sahaja  
B. Pertambahan bilangan daun sahaja.  
C. Kekuatan akar  
D. Pertambahan bilangan daun dan ketinggian.

**Jawab semua soalan.**

1. Isi tempat kosong dengan jawapan yang betul.

- ( a ) Manusia memerlukan \_\_\_\_\_ untuk bernafas.
- ( b ) \_\_\_\_\_ diperlukan untuk minum dan membersihkan diri.
- ( c ) \_\_\_\_\_ penting kepada manusia sebagai tempat berlindung daripada hujan dan panas.
- ( d ) Manusia perlukan \_\_\_\_\_ untuk kekal sihat dan bertenaga.
- ( e ) Air, udara, makanan dan tempat perlindungan dikenali sebagai \_\_\_\_\_  
asas manusia.

2. Kelaskan makanan berikut mengikut khasiatnya.





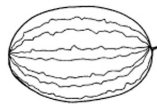
nasi

telur

roti

lobak merah

Memberi tenaga	Membantu tumbesaran	Menjaga kesihatan



ayam

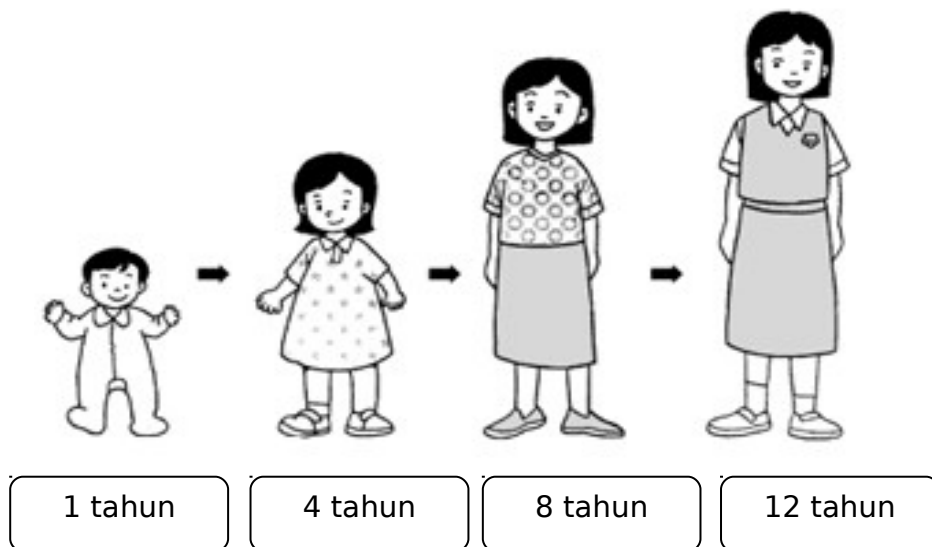
pisang

tembikai

kek

susu

3. Rajah 4 menunjukkan peringkat tumbesaran yang berlaku pada diri Hannah.



Gariskan jawapan yang betul.

- ( a ) Pada umur **1 tahun / 4 tahun**, Hannah baru pandai berjalan.
- ( b ) Ketinggian Hannah **paling tinggi / paling rendah** pada umur 12 tahun.
- ( c ) Saiz badan Hannah semakin **bertambah / berkurang** .
- ( d ) Pada umur 8 tahun, saiz badan Hannah **lebih kecil / lebih besar** berbanding ketika umur 4 tahun.

( e ) Untuk membantu tumbesaran, Hannah perlu makan **telur / roti**.

( f ) Perubahan yang berlaku pada diri Hannah semasa tumbesaran adalah berat, ketinggian dan **rupa paras / saiz**.

4. Lengkapkan dengan diet makan, tempat perlindungan dan cara bergerak haiwan-haiwan berikut.

( a )



Kuda

Diet makan	
Tempat perlindungan	
Cara bergerak	

( b )



Katak

Diet makan	
Tempat perlindungan	
Cara bergerak	

( c )

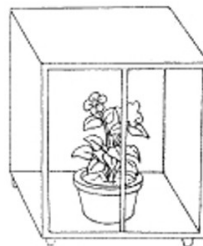


Ayam

5.	Diet makan		Tumbu
	Tempat perlindungan		
	Cara bergerak		

han di bawah berada dalam 3 situasi yang berbeza. Nyatakan pemerhatian kamu ke atas tumbuhan berikut selepas 2 minggu dan berikan alasannya.

( a )



Pemerhatian selepas 2 minggu	
Alasan	

( b )

Pemerhatian selepas 2 min		
Alasan		

( c )

Pemerhatian selepas 2 r		
Alasan		