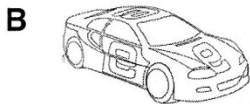


BAHAGIAN A (10 MARKAH)

Bulatkan jawapan yang betul.

- I Antara berikut yang manakah bukan keperluan asas manusia ?



- 2 Rajah 1 menunjukkan satu keperluan asas manusia.



- 10 Rajah 4 menunjukkan seorang bayi berumur lapan bulan.



Rajah 4

Apakah yang dapat dilakukan oleh bayi ini ?

- 3 A Merangkak
B Berlari
C Melompat

- II Senarai di bawah menunjukkan tiga jenis makanan yang membantu kita membesar.

• Ayam • Ikan • Daging

- 7 Antara makanan berikut, yang manakah boleh dimasukkan dalam senarai di atas ?

A Terung
B Biskut

- 8 C Telur

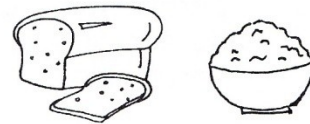
- 4 Berikut merupakan tiga keperluan asas manusia.

• Udara
• Air
• Makanan

Apakah yang akan berlaku jika manusia tidak mendapat keperluan asas ini ?

- A Manusia akan mati
B Manusia akan membesar
C Manusia akan kekal segar

- 5 Rajah 2 menunjukkan dua jenis makanan.



Rajah 2

Apakah kebaikan dua jenis makanan ini ?

- A Membantu kita membesar
B Memberi kita tenaga
C Membantu kita menjaga kesihatan

- 6 Antara makanan berikut, yang manakah tidak berkhasiat ?



6



- 9 Siti selalu jatuh sakit. Dia perlu makan lebih banyak

I ikan
II buah-buahan
III sayur-sayuran


A I dan II C II dan III

1

B I dan III

BAHAGIAN B (40 MARKAH)

A. Sesuaikan keperluan asas manusia dengan kegunaannya.



Melindungi kita daripada hujan, panas dan bahaya



1 Makanan yang memberi tenaga.



2 Makanan yang membantu tumbesaran.



3 Makanan yang membantu menjaga kesihatan.

B

(ah)



1  susu 


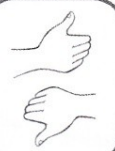
2  minuman 

c Warnakan  untuk makanan yang menjadikan kita sihat dan kuat dan  untuk makanan yang tidak baik untuk kesihatan kita.

3  goreng 


4  sayuran  1.2.2 B6DS1E3

5  buah-buahan 

6  keropok 

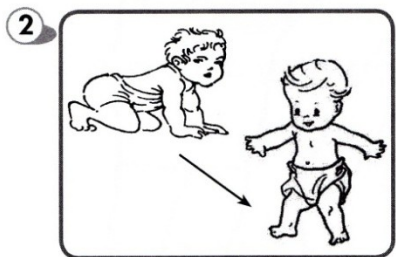
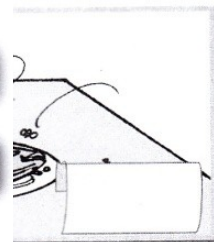
(6 markah)

D. Tandakan (/) pada petak yang betul.



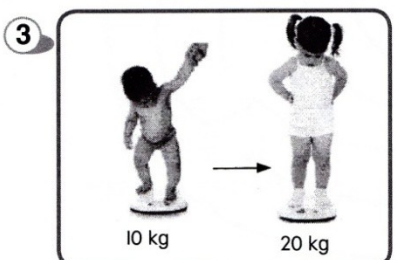
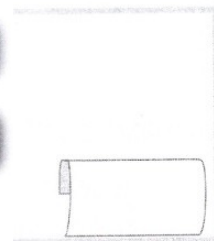
Saiz badan bertambah.

Ketinggian bertambah.



Saiz badan bertambah.

Ketinggian bertambah.



Ketinggian bertambah.


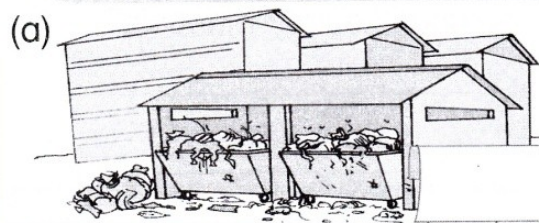
Berat badan bertambah.



E



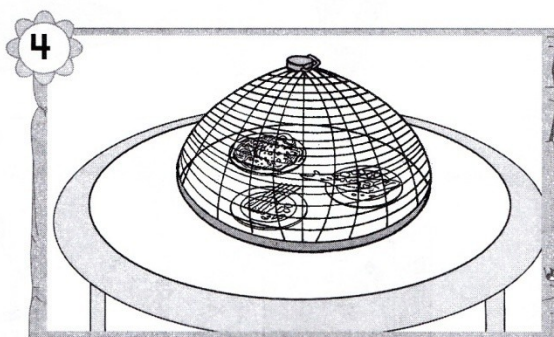


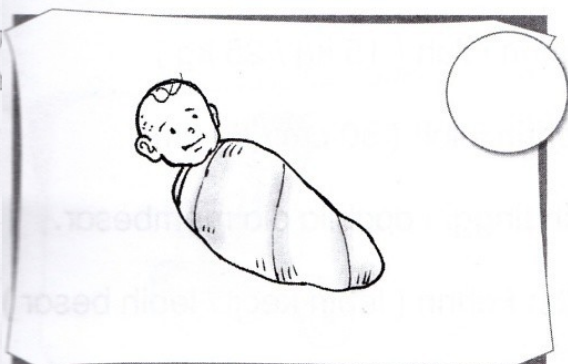



air, udara dan tempat perlindungan yang kotor. B6DIE2

4 Tempat perlindungan



(4 markah)

F. Tulis nombor 1 hingga 6 bagi menunjukkan bagaimana manusia membesar.



(8 markah)