

Bahagian A

Bulatkan jawapan yang betul.

1. Antara makanan berikut, manakah yang membantu tumbesaran?



2. Makanan adalah penting untuk?

- A. Bermain
- B. Hidup dengan sihat
- C. Menambah berat badan

3. Gambar di bawah ini menunjukkan tiga orang murid dalam kelas tahun 2. Manakah bekas tapak tangan Amin?




Lina Amin Gopal



4. Apakah yang akan berlaku jika kita meminum air sungai yang kotor?

- A. Kita akan sakit
- B. Kita akan sihat
- C. Kita akan bertenaga

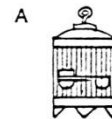
5. Gambar di bawah menunjukkan urutan tumbesaran manusia.



Manakah yang betul untuk peringkat X?



6. Antara yang berikut yang manakah tempat tinggal seekor kelawar?



7. Gambar di bawah menunjukkan keadaan seekor belalang yang dipelihara oleh Raju.




Selepas tiga jam, belalang itu mati. Mengapakah belalang itu mati?

- A. Belalang itu tidak mendapat makanan yang cukup
 - B. Belalang itu tidak mendapat air yang cukup
 - C. Belalang itu tidak mendapat cukup udara.
8. Gambarajah di bawah menunjukkan seekor ular sawa.



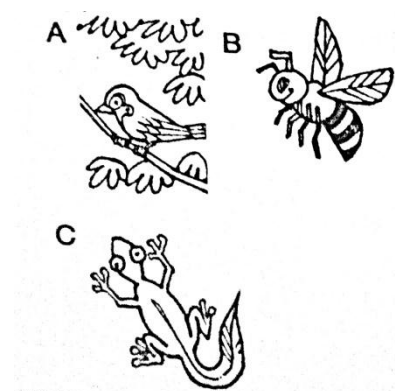
Manakah yang merupakan makanan haiwan itu?




9. Gambarajah di bawah menunjukkan sebuah sarang haiwan.



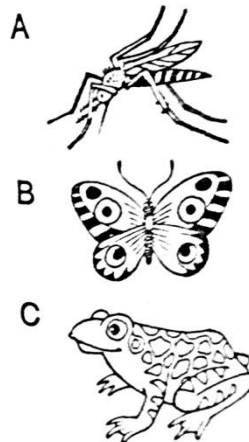
Manakah haiwan yang tinggal di sarang itu?



- 10.



Gambar di atas menunjukkan seekor anak haiwan. Manakah ibu bagi anak haiwan itu?



11. Gambar di bawah menunjukkan seekor haiwan.



Apakah cara haiwan itu bergerak?

- A. Berjalan
- B. Terbang
- C. Merayap

12. Gambar di bawah menunjukkan keadaan satu pokok dalam satu penyiasatan.



Selepas 7 hari pokok itu mati. Apakah yang menyebabkan pokok itu mati?

- A. Pokok itu tidak mendapat air
- B. Pokok itu tidak mendapat udara
- C. Pokok itu tidak mendapat cahaya

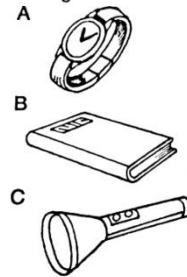
13. Gambar di bawah menunjukkan perubahan ketinggian suatu pokok.



Apakah yang dapat dikatakan tentang pokok itu?

- A. Pokok itu membiak
- B. Pokok itu membesar
- C. Pokok itu bergerak.


14. Antara yang berikut, manakah benda yang mengeluarkan cahaya?




15. Apabila kita berada di dalam sebuah bilik yang gelap, kita tidak dapat

- A. Melihat dengan jelas
- B. Bergerak pantas
- C. Menghidu sesuatu

16. Objek di bawah telah di suluh dengan cahaya.



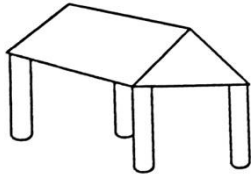
Manakah bayang-bayang objek ini?



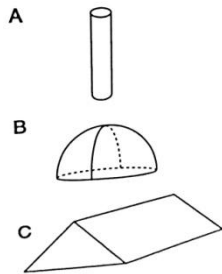
17. Mengapakah kita memerlukan cahaya?

- A. Untuk melihat
- B. Untuk bergerak
- C. Untuk menjaga kesihatan

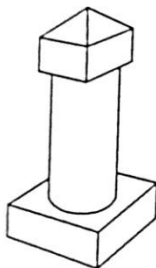
18.



Gambarajah di atas menunjukkan sebuah binaan. Apakah komponen yang TIDAK digunakan untuk membina binaan itu?



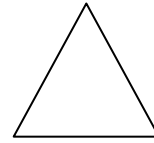
19. Gambarajah bawah menunjukkan sebuah binaan menara.



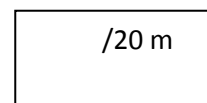
Berapakah jenis komponen yang digunakan untuk membina menara itu?

- A. 2
- B. 3
- C. 4

20. Namakan bentuk di bawah.




- A. Segitiga
- B. Bulat
- C. Segi empat




Jawab semua soalan di bawah.

21. Lukis arah cursor yang betul bagi setiap fungsi di bawah.

a) Gerakkan cursor ke kiri



b) Gerakkan cursor ke kanan



c) Gerakkan cursor ke atas



d) Gerakkan cursor ke bawah



e) Lukis tanda tingkap



22. Apakah fungsi *Caps Lock* pada papan kekunci?

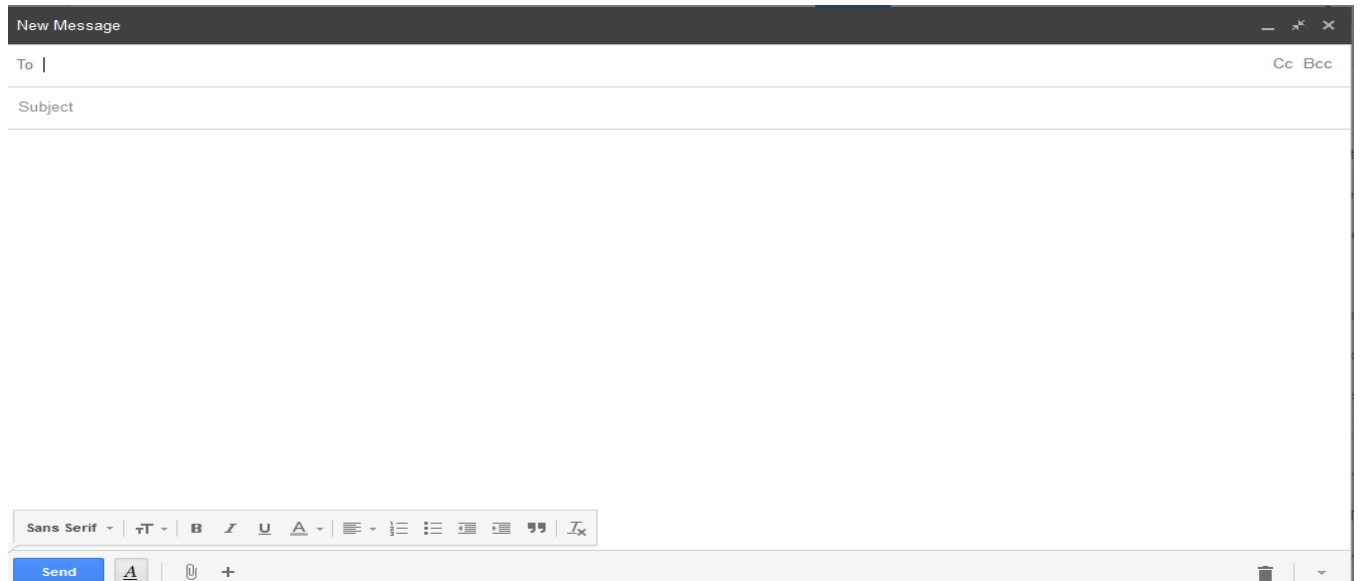
23. Apakah fungsi *Backspace* pada papan kekunci?

24. Apakah fungsi *space bar* pada papan kekunci?

25. Antara yang berikut, manakah etika yang betul ketika menghantar emel?


- A. Gunakan fon teks bewarna merah
- B. Gunakan emel orang lain
- C. Gunakan perkataan yang sopan.

26. Gambar di bawah adalah gambaran emel. Lengkapkan emel di bawah kepada kawan kamu.



/10m

Kelaskan haiwan berikut mengikut cara haiwan membiak.



Semut



Kucing




Kutu




Tikus



Katak




Kura-kura




Arnab




Lalat



Biri-biri



Ikan



Kanggaru



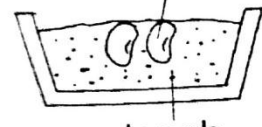



Rusa

Haiwan yang melahirkan anak	Haiwan yang bertelur









/6m

Tentukan sama ada biji benih yang berikut akan bercambah. Tandakan (✓) pada petak yang sesuai.

<p>1</p> <p>biji benih</p>  <p>air panas</p> <p><input type="checkbox"/> Bercambah</p> <p><input type="checkbox"/> Tidak bercambah</p>	<p>2</p> <p>biji benih</p>  <p>batu kelikir</p> <p><input type="checkbox"/> Bercambah</p> <p><input type="checkbox"/> Tidak bercambah</p>
<p>3</p> <p>biji benih</p>  <p>tanah basah</p> <p><input type="checkbox"/> Bercambah</p> <p><input type="checkbox"/> Tidak bercambah</p>	<p>4</p> <p>biji benih</p>  <p>tanah kering</p> <p><input type="checkbox"/> Bercambah</p> <p><input type="checkbox"/> Tidak bercambah</p>

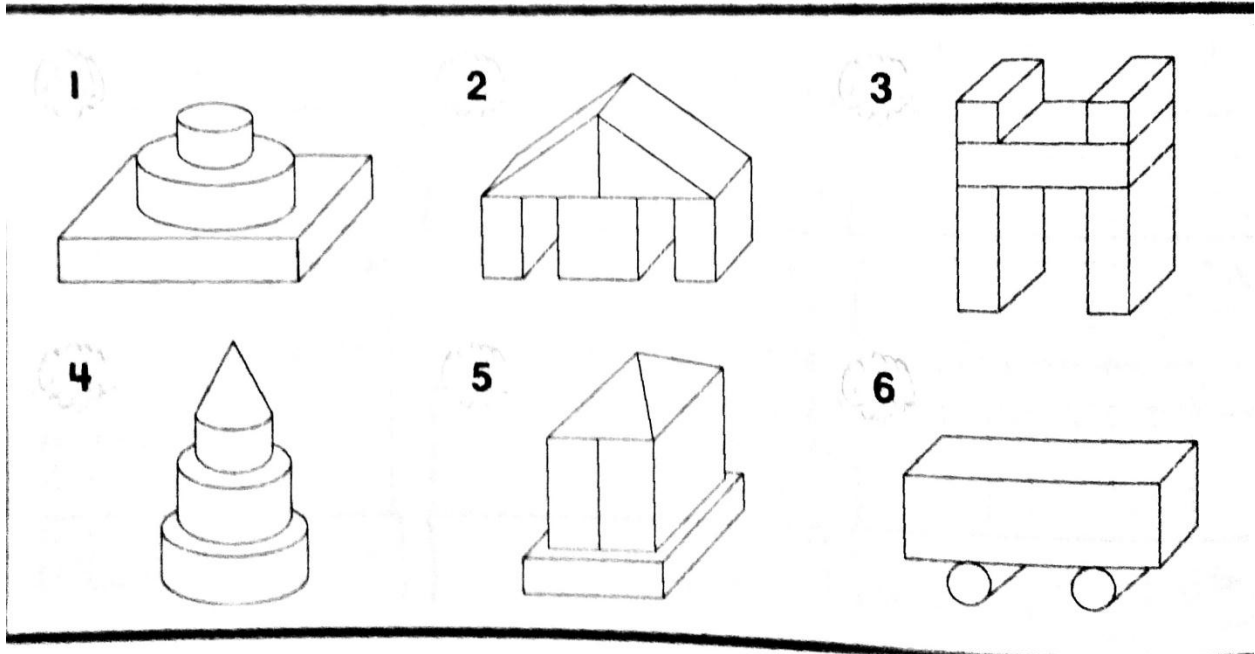
/4m

Bulatkan bayang-bayang yang betul untuk objek-objek di bawah.

<p>1</p> 	
<p>2</p> 	
<p>3</p> 	
<p>4</p> 	

/4m

Bulatkan binaan yang hanya mempunyai komponen silinder dan kuboid.



/6m

Kertas Soalan Tamat