



## **SEKOLAH KEBANGSAAN SERI PAKA**

PEPERIKSAAN PERTENGAHAN TAHUN 2013

---

PENDIDIKAN SENI VISUAL

TAHUN 6

---

NAMA: \_\_\_\_\_

TAHUN : \_\_\_\_\_

### **JANGAN BUKA KERTAS SOALAN INI SEHINGGA DIBERITAHU**

1. Kertas soalan ini mengandungi 40 soalan. Jawab semua soalan .
2. Jawab dengan menghitamkan ruangan pada kertas jawapan.
3. Bagi setiap soalan hitamkan satu ruangan jawapan sahajan.

**SULIT**

4. Jika hendak menukar jawapan, padamkan tanda yang telah dibuat. Kemudian hitamkan jawapan yang baru.


1. Manakah **bukan** warna asas?

- A. Biru
- B. Hitam
- C. Merah
- D. Kuning

2. Apakah warna yang terhasil daripada campuran warna biru dan kuning?

- A. Hijau
- B. Merah
- C. Jingga
- D. Coklat

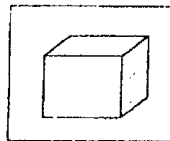
3. Antara berikut yang manakah merupakan rupa geometri?



A



B



C



D


4. Manakah **bukan** merupakan jalinan sentuh?

- A. Sisik ikan
- B. Batang pokok
- C. Kulit buah nanas
- D. Corak pada kertas

5. Manakah **bukan** motif tumbuh - tumbuhan?




A



D




B



C

6. Kedudukan objek manakah kelihatan paling jauh?



Rajah 1

- A. i
- B. ii
- C. iii
- D. iv


7. Objek yang paling dekat akan kelihatan lebih \_\_\_\_\_ daripada objek yang jauh.

- A. besar
- B. kecil
- C. pudar
- D. pendek


8. Berikut adalah rupa burung **kecuali**




A



B

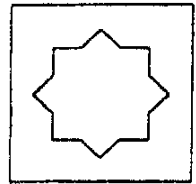
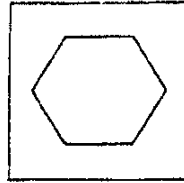
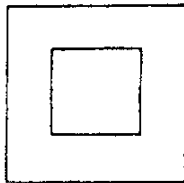



C



D

9. Manakah bentuk asas bagi segiempat?



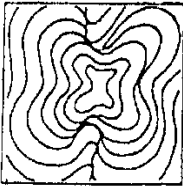
SULIT

A  
D

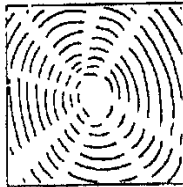
B

C

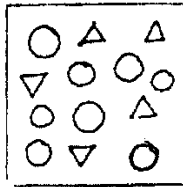
10. Antara berikut, corak garisan yang manakah **tidak** menunjukkan pergerakan?



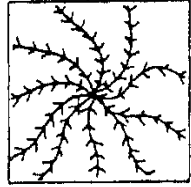
A



B



C




D

11. Motif yang berulang akan menghasilkan

- A. Wau
- B. Arca
- C. Corak
- D. Anyaman

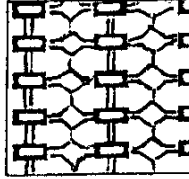
12. Antara berikut yang manaka merupakan corak batu-bata?




A



B




C



D

- 13.



Rajah 2

Rajah di atas adalah hasil corak

- A. Sendeng
- B. Berpusat

SULIT

- C. Bero mbak
- D. Cerminan

14.




Rajah 3

Apakah teknik yang digunakan untuk menghias objek di atas?

- A. Catan
- B. Anyaman
- C. Cetakan
- D. Sulaman

15.



Rajah 4

Apakah motif gubahan corak di atas?

- A. Gubahan flora
- B. Gubahan huruf
- C. Gubahan geometri
- D. Gubahan alat permainan

*SULIT*

16. Berikut adalah objek yang mempunyai permukaan jalinan sisik ikan **kecuali**
- A. Buah epal
  - B. Buah nona
  - C. Buah nenas
  - D. Buah strawberi

17.



Rajah 5


Apakah teknik yang digunakan untuk menghasilkan corak di atas?

- A. Kolaj
  - B. Mozek
  - C. Tiupan
  - D. Pualaman
18. Apakah alatan penting bagi menghasilkan corak melalui teknik lipatan dan guntingan?
- A. Buluh
  - B. Belon
  - C. Dawai
  - D. Gunting

*SULIT*


19. Manakah langkah - langkah yang **betul** mengenai teknik - teknik guntungan?
- A. Potong, lipat dan tampal
  - B. Lipat, picit dan tampal
  - C. Lipat, potong dan tampal
  - D. Lipat, guris dan tampal

20.



Rajah 6

- Apakah jenis corak hasilan di atas?
- A. Corak orgee
  - B. Corak batu-bata
  - C. Corak berpusat
  - D. Corak turun separa
21. Arca adalah hasilan \_\_\_\_\_ dimensi.
- A. satu
  - B. dua
  - C. tiga
  - D. empat
22. Apakah bahan asas yang **tidak sesuai** untuk membina sebuah arca penyu?
- A. Pasir
  - B. Polisterin
  - C. Botol plastik
  - D. Bongkah kayu lembut
- 23.



Rajah 7

Di manakah tempat yang **paling sesuai** untuk menggantung hiasan di atas?

- A. Ruang tamu
- B. Ruang dapur
- C. Bilik tidur
- D. Bilik mandi

24. Apakah bahan yang **paling sesuai** digunakan untuk menggantung hiasan di atas?

- A. Tali
- B. Gam
- C. Polisterin
- D. Plastesin


25. Manakah pasangan yang **salah**?

- A. Lilin → batik
- B. Canting → tenunan
- C. Tanah liat → tembikar
- D. Daun mengkuang → anyaman

Soalan 26 - 28 berdasarkan Rajah 8.




SULIT



Rajah 8

26. Hasilan di atas dikenali sebagai
- A. Batik
  - B. Anyaman
  - C. Tembikar
  - D. Diorama
27. Apakah tema pada hasilan di atas?
- A. Hidupan liar
  - B. Hidupan laut
  - C. Flora dan geometri
  - D. Buah - buahan tempatan
28. Apakah bahan utama untuk menghasilkan hasilan di atas?
- A. Kotak
  - B. Belon
  - C. Pasir
  - D. Berus

Soalan 29 - 31 berdasarkan Rajah 9.



Rajah 9

29. Apakah teknik yang digunakan pada hasil di atas?
- Tiupan
  - Titisan
  - Guntingan
  - Papier mache*
30. Hasil di atas \_\_\_\_\_ bentuk asalnya.
- menyerupai
  - lebih besar dari
  - lebih kecil dari
  - lebih lebar dari
31. Apakah bahan asas untuk menyediakan hasil melalui teknik di atas?
- Tali dan botol
  - Kertas dan gam
  - Belon dan benang
  - Pensel dan pemadam
32. Negeri manakah yang terkenal dengan permainan tradisional kuda kepang?
- Johor
  - Perak
  - Selangor
  - Terengganu
- 33.

**Kraf yang dihasilkan melalui**

*SULIT*

Pernyataan di atas merujuk kepada seni

- A. batik
- B. tembikar
- C. anyaman
- D. pualaman

34. Apakah bahan utama dalam menghasilkan batik?

- A. Sabut, tali dan jerami
- B. Lilin, kain dan pewarna
- C. Buluh, warna dan berus
- D. Tanah liat, air dan pisau

35. Apakah kegunaan berus dalam proses membatik?

- A. Meregang kain
- B. Menyapu warna
- C. Melembutkan kain
- D. Menanggalkan lilin

36. Apakah alatan yang digunakan semasa proses mencanting batik?

- A. Sudu
- B. Sudip
- C. Berus
- D. Canting

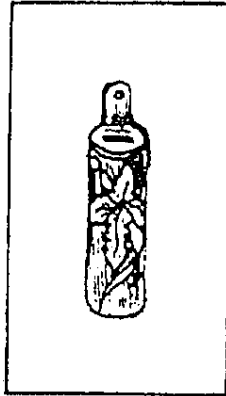
37. Apakah langkah pertama dalam proses membatik?

- A. Meregangkan kain pada pemidang
- B. Mewarna mengikut ruang motif
- C. Mencanting mengikut lakaran pensel
- D. Mematikan warna menggunakan *sodium silikat*

SULIT

38. Apakah bahan yang digunakan untuk menanggalkan lilin daripada kain dalam proses membatik?
- A. Pewarna (*dye*)
  - B. Debu soda (*soda ash*)
  - C. Natrium silikat (*fixer*)
  - D. Pelembut fabrik (*softener*)

39.



Rajah 10

- Apakah fungsi yang **paling sesuai** bagi hasilan di atas?
- A. Cawan
  - B. Tabung duit
  - C. Bekas bunga
  - D. Bekas pensel
40. Negeri manakah yang sering dikaitkan dengan seni ukiran buah?
- A. Kelantan
  - B. Pahang
  - C. Sarawak
  - D. Pulau Pinang

*SULIT*

**SOALAN TAMAT**