



PENDIDIKAN MUZIK


TAHUN 6

BAHAGIAN A





Bulatkan jawapan yang betul.

1. Sebutan solfa mengikut urutan rendah ke tinggi.  
A mi fa so la ti  
B do mi so la so  
C la so fa mi re  
D re so mi so do
2. Nilai krocet bertitik ialah \_\_\_\_\_.  
A 1  
B  $\frac{1}{2}$   
C  $1\frac{1}{2}$   
D 2
3. Tanda rehat minim ialah \_\_\_\_\_.  
A  $\zeta$   
B  $-$   
C  $-$   
D  $\gamma$
4. Nilai not  ialah \_\_\_\_\_.  
A 1  
B 4  
C  $\frac{1}{2}$   
D 2
5. Maksud frasa \_\_\_\_\_.  
A secara putus-putus  
B dalam satu nafas  
C pertukaran nafas  
D semakin lembut
6. Maksud *mp* ialah \_\_\_\_\_.  
A kuat  
B sederhana kuat  
C lembut  
D sederhana lembut
7. Bit/kiraan muzik yang tetap dan konsisten ialah \_\_\_\_\_.  
A detik  
B tempo  
C dinamik  
D meter
8. Alat muzik yang digunakan dalam persembahan Dikir Barat ialah \_\_\_\_\_.  
I maracas  
II rebana  
III canang  
IV gong  
A I, II, dan III  
B II, III, dan IV  
C II dan IV  
D semua di atas



9.  ialah not \_\_\_\_\_.  
A C'  
B G  
C D  
D A

10.  ialah not \_\_\_\_\_.  
A C'  
B G  
C B  
D E


11. Corak irama bagi meter  $\frac{3}{4}$  ialah

A   
B   
C   
D 

12. Corak irama bagi meter  $\frac{4}{4}$  ialah

A   
B   
C   
D 

13. Namakan alat perkusi ini.



- A marakas  
B kastanet  
C dram  
D loceng

14. Alat ini diperbuat daripada kayu, berbentuk bulat, bunyi sederhana kuat dan pendek.

Alat perkusi ini ialah \_\_\_\_\_.

- A kayu tik tok      C kastanet  
B tamborin      D kerincing

15. Unsur tekstur dalam muzik merangkumi \_\_\_\_\_.

- I nipis      III panjang  
II tebal      IV nyaring  
A I dan II      C I, III, dan IV  
B II dan III      D semua di atas

16. Lagu yang bermud sedih biasanya dimainkan dalam tempo yang \_\_\_\_\_.

- A lambat      C cepat  
B sederhana      D semakin laju


17. *Fine* dalam skor lagu bermaksud \_\_\_\_\_.

- A ulang semula      C licin  
B tamat      D lancar


18. Bunyi-bunyian berbentuk perkusi dapat dihasilkan daripada \_\_\_\_\_.

- I Alat perkusi  
II Alat muzik bermelodi  
III Perkusi badan  
IV Alat muzik improvisasi  
A I dan III      C I, II, dan III  
B II, III dan IV      D I, III dan IV

19. Penjarian not C pada rekoder ialah \_\_\_\_\_.



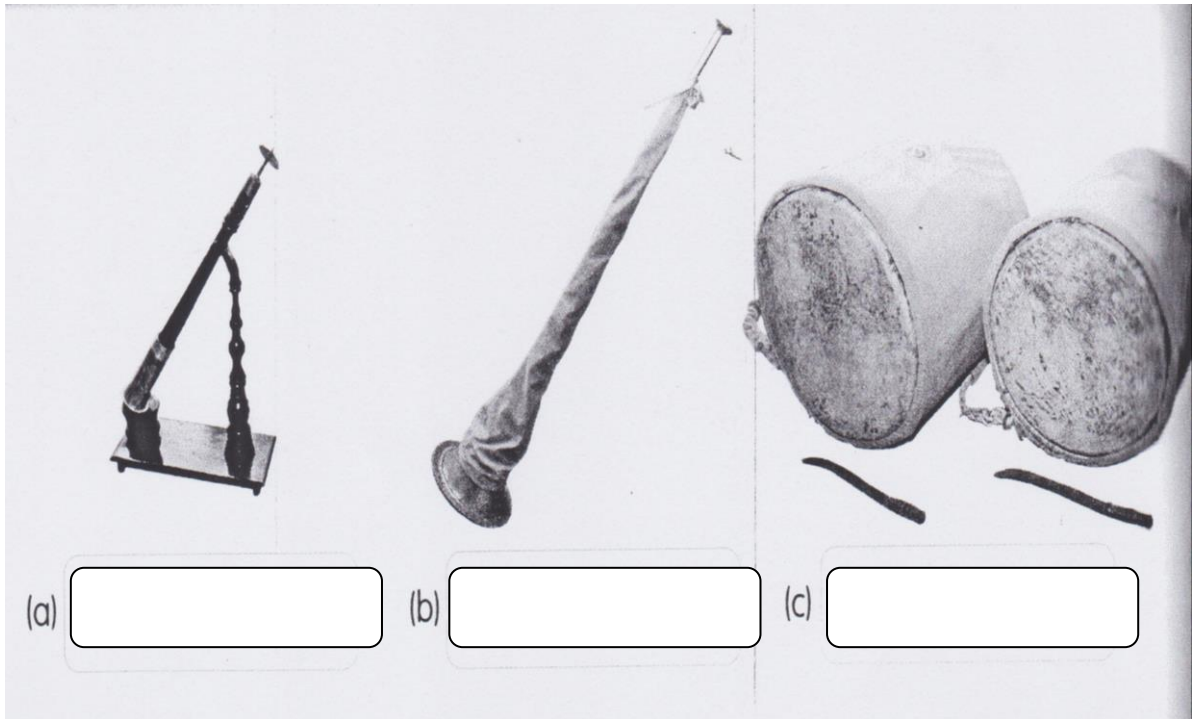
20. Penjarian not A pada rekoder ialah \_\_\_\_\_.




(20 markah)

## Bahagian B

1. Namakan alat muzik yang terdapat dalam ensemble nobat.



2. Suaikan.



(22 markah)

BAHAGIAN C

Lengkapkan senikata lagu di bawah ini.

KOOKABURRA

Kookaburra \_\_\_\_\_ on the old gum tree

Merry merry \_\_\_\_\_ of the bush is he.

Laugh, kookaburra \_\_\_\_\_,

\_\_\_\_\_, merry merrily

(8 markah)