

SEKOLAH KEBANGSAAN TAMAN DUSUN NYIOR, SEREMBAN
BANK SOALAN
DUNIA SAINS DAN TEKNOLOGI TAHUN 2
MASA : 1 JAM 15 MINIT

BAHAGIAN A

Pilih jawapan yang paling tepat. Tuliskan jawapan pada lampiran yang disediakan.

1. Apakah keperluan asas bagi gambar yang ditunjukkan di bawah ?



- A. Air
- B. Udara
- C. Tempat perlindungan

2. Mengapakah belalang yang di tunjukkan di bawah mati selepas beberapa hari?



- A. Kekurangan air
- B. Tidak mendapat udara
- C. Tidak mendapat makanan

3. Haiwan berikut makan tumbuhan sahaja **kecuali**....


- A. harimau
- B. kambing
- C. rusa

4. Antara berikut haiwan yang bertelur ialah


A.



B.



C.



5. Antara berikut , yang manakah menghasilkan cahaya yang paling terang?


A.



B.



C.



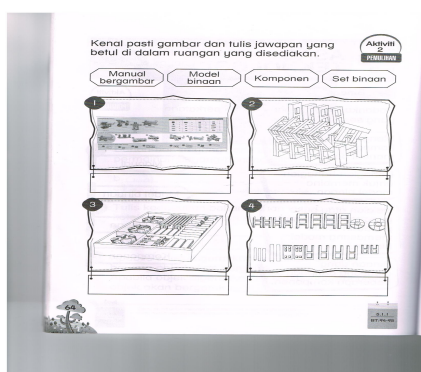
6. Antara berikut, yang manakah benar tentang perubahan yang berlaku pada rama-rama ?

- A. Telur → Pupa → Beluncas → Dewasa
- B. Telur → Beluncas → Pupa → Dewasa
- C. Telur → Beluncas → Dewasa → Pupa

7. Mengapakah cahaya penting kepada kita?

- A. Cahaya membolehkan kita melihat objek.
- B. Cahaya membolehkan kita mendengar.
- C. Cahaya membolehkan kita menghidu.

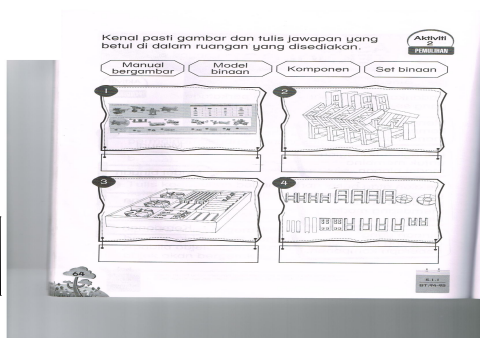
8. Kenal sesuai.



pasti gambar dan pilih jawapan yang

- A. Manual bergambar
- B. Komponen
- C. Model binaan







9. Kenal pasti gambar dan pilih jawapan yang sesuai.











- A. Manual bergambar
- B. Komponen
- C. Model binaan

BAHAGIAN B


Tandakan (/) bagi keperluan asas manusia dan (X) bagi bukan keperluan asas manusia.

<p>1.</p>  <input type="radio"/>	<p>2.</p>  <input type="radio"/>	<p>3.</p>  <input type="radio"/>
 <input type="radio"/>	<p>5.</p>  <input type="radio"/>	 <input type="radio"/>

Tandakan (/) pada ibu bagi setiap anak haiwan berikut.

<p>7</p> 	 <input type="radio"/>	 <input type="radio"/>	 <input type="radio"/>
<p>8</p> 	 <input type="radio"/>	 <input type="radio"/>	 <input type="radio"/>

9. Kelaskan makana

		
<p>Timun</p>	<p>Bijirin</p>	<p>Kangkung</p>
		
<p>Keju</p>	<p>Ubi keledek</p>	<p>Nasi</p>
		
<p>Manggis</p>	<p>Ayam</p>	<p>Ikan</p>

	Makanan yang memberi tenaga	Makanan yang membantu tumbesaran	Makanan yang membantu menjaga kesihatan
	(a) (b) (c)	(a) (b) (c)	(a) (b) (c)