

BAHAGIAN A

Pilih jawapan yang paling tepat.


1. Semibrif mempunyai nilai not yang panjang. Semibrif bernilai _____.
 - A. 1
 - B. 2
 - C. 3
 - D. 4

2. Kuaver merupakan separuh daripada not krocet. Kuaver bernilai _____.
 - A. 1
 - B. $1/2$
 - C. 2
 - D. 4

3. Dua krocet bersamaan dengan 1 _____.
 - A. kuaver
 - B. minim
 - C. semibrif
 - D. semikuaver

4. Sebutan Kodaly "ti-ti" melambangkan ikon _____.

A. 

B. 

C. 

D. 

5. Cepat, sederhana, dan lambat merupakan _____ dalam Muzik.

A. dinamik

B. tempo

C. warna ton

D. irama

6. Dinamik terdiri daripada bunyi lembut dan _____.

A. cepat

B. laju

C. kuat

D. lembik

7. Apakah nyanyian a cappella?

- A. Gabungan dua, tiga atau empat jenis suara.
- B. Nyanyian berpadu suara secara berkumpulan tanpa iringan ala muzik.
- C. Nyanyian yang dipersembahkan di majlis hari jadi.
- D. Gabungan orang dewasa dan kanak-kanak.

8. $\frac{4}{4}$, $\frac{2}{4}$, $\frac{3}{4}$ merupakan _____.

- A. meter
- B. pecahan
- C. sifir
- D. dinamik

9. Kompang kebiasannya dimainkan pada upacara _____.

- A. perhimpunan
- B. pengebumian
- C. perkahwinan
- D. tarian



Gambar 1

10. Klef G juga dikenali sebagai klef _____.

- A. alto
- B. trebel
- C. bes
- D. tenor



Gambar 2

11. Gambar 2 menunjukkan not yang bernama _____. Ianya bernilai 1.

- A. kuaver
- B. semibrif
- C. krocet
- D. semikuaver



Gambar 3

12. Gambar 3 menunjukkan not yang bernama _____. Ianya bernilai 2.

- A. kuaver
- B. semibrif
- C. krocet
- D. minim

13. Berikut adalah alat muzik nobat kecuali
- A. Serunai
 - B. Gitar
 - C. Nahara
 - D. Nafiri
14. Pernyataan manakah yang tidak tepat tentang alat muzik dan negara asalnya
- A. Alphorn -Switzerland
 - B. Sho - Tibet
 - C. Changgo - Korea
 - D. Mvet - Afrika
15. Do Re Mi merupakan _____.
- A. nama-nama not
 - B. nilai-nilai not
 - C. nama alat muzik
 - D. solfa
16. Gembira merupakan salah satu _____ dalam muzik.
- A. mud
 - B. nilai not
 - C. nama not
 - D. solfa

17. Kompang merupakan alat muzik kaum _____.
- A. India
 - B. Cina
 - C. Melayu
 - D. Kadazan
18. Loceng merupakan alat muzik _____.
- A. ketuk
 - B. tiup
 - C. petik
 - D. goncang
19. Lagu _____ merupakan lagu kebangsaan negara Malaysia.
- A. Sejahtera Malaysia
 - B. Malaysia Maju
 - C. Aku Negaraku
 - D. Negaraku
20. Alat muzik ini menghasilkan bunyi yang lanjut (panjang)
- A Tamburin
 - B Kerincing
 - C Kompang
 - D Kayu Tik Tok

21.adalah alat muzik yang bermelodi

A Kompang

B Kayu Tik Tok

C Melodian

D Loceng

Gambang	Saron demong	Gendang Ciblon
Bonang barong	Saron barong	Gong besar
Saron pekin	Kenong	Gong kecil

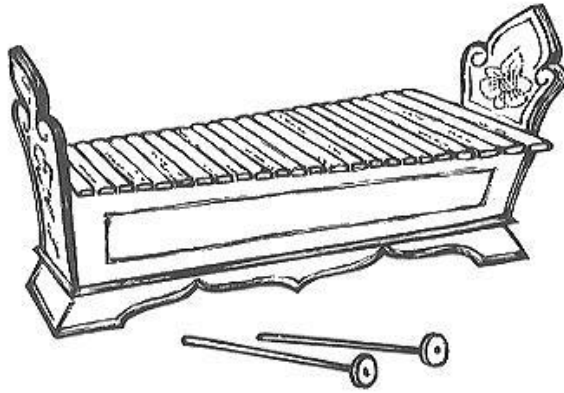
22. Pernyataan di atas adalah merujuk pada alat muzik

A Nobat

B Gamelan

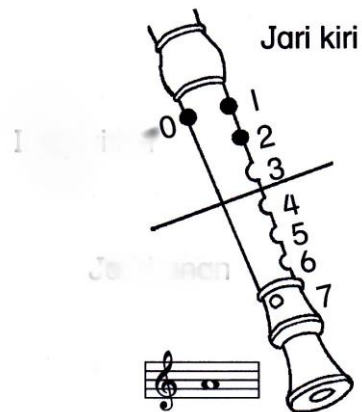
C Kuda kepang

D Keroncong.,



23. Alat muzik diatas dinamakan sebagai.....
- A Saron barong
 - B Gambang
 - C Serunai
 - D Gendang ciblon

Soalan 24 berdasarkan gambar di bawah.



24. Apakah nama not rekoder tersebut?
- A. Not B
 - B. Not A
 - C. Not C'
 - D. Not D'

25. Berikut adalah jenis- jenis rekoder **kecuali**.....

- A. Rekoder bes.
- B. Rekoder Alto.
- C. Rekoder Soprano
- D. Rekoder krocet

26. Lagu " Jalur Gemilang" adalah genre lagu.....

- A. Lagu Tradisional
- B. Lagu Patriotik
- C. Lagu Pop
- D. Lagu Melayu Asli

Soalan 27 merujuk kepada gambar di bawah.



27. Isyarat tangan di atas merujuk kepada

- A. Re
- B. Fa
- C. So
- D. Do

Soalan 28 berpandukan gambar di bawah.



28. Gambar di sebelah merujuk sejenis alatan bertali. Alatan manakah yang mempunyai ciri-ciri sama seperti gambar di atas?

- A. Conga
- B. Akordion
- C. Gambus
- D. Tabla

29. Bagaimanakah alat muzik di bawah dimainkan?



- A. Ketuk
- B. Tepuk
- C. Goncang
- D. Hentak

30. Jimmy Boyle merupakan seorang pemuzik jazz Malaysia yang berasal dari

A. Sabah

C. Selangor

B. Sarawak

D. Pulau Pinang

----- **KERTAS SOALAN TAMAT** -----

DISEDIAKAN OLEH

DISEMAK OLEH
