

Matematik
Kertas 2

Nama: _____

Kelas : _____

40 minit

MATEMATIK TAHUN 2

Kertas 2

40 minit

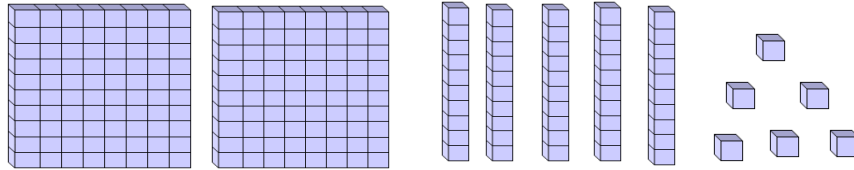
JANGAN BUKA KERTAS SOALAN INI SEHINGGA DIBERITAHU

1. *Kertas soalan ini mengandungi 20 soalan*
2. *Jawab semua soalan*
3. *Rajah yang mengiringi masalah dalam kertas ini bertujuan untuk memberi maklumat berguna bagi menyelesaikan masalah. Rajah ini tidak semestinya dilukis mengikut skala.*
4. *Jawab semua soalan dalam ruangan yang disediakan.*
5. *Semua langkah pengiraan hendaklah ditunjukkan dengan jelas. Anda mungkin kehilangan markah jika langkah pengiraan tidak ditunjukkan dengan teratur.*
6. *Tidak dibenarkan menggunakan kalkulator*
7. *Serahkan kertas soalan ini diakhir ujian.*

Kod pemeriksa		
Soalan	Markah penuh	Markah diperolehi
1	1	
2	1	
3	1	
4	1	
5	1	
6	2	
7	2	
8	2	
9	2	
10	2	
11	2	
12	2	
13	2	
14	2	
15	2	
16	3	
17	3	
18	3	
19	3	
20	3	
Jumlah		

[40 marks]
Answer **all** questions.

1 Tuliskan dalam bentuk nombor [1 mark]



1

1

2 Tuliskan 4 0 0 4 dalam perkataan [1 mark]

2

1

3 Tuliskan tiga ratus sembilan puluh dalam angka

3

1

4 Susun 596, 169, 379, 961 dan 406 mengikut tertib menurun

4

1

5 Bundarkan 528 kepada ratus yang hampir

5

1

6 Cari hasil tambah 17, 85 dan 2 ?

6

2

7

2	

7 $120 \times 36 =$

8

2	

8 Arrange the numbers below in **ascending** order
Susun nombor-nombor di bawah dalam tertib menaik

3 375 , 3 175 , 3 155 , 3 275

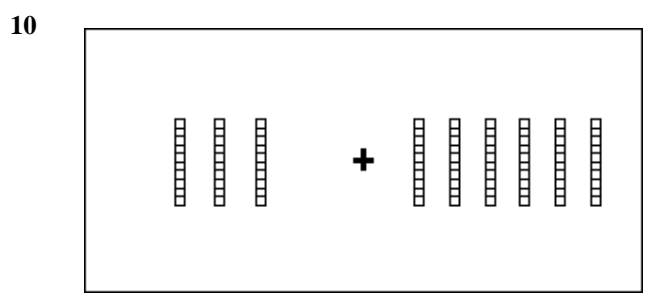
9

2	

9 $9 + 500 + 7\,000 =$

10

2	



Cari hasil tambah rajah di atas

11

2	

11 $14 = \underline{\quad} \times 2$
Apakah nomor yang tertinggal?

12

2	

12

	<table border="1" style="display: inline-table; vertical-align: middle;"><tr><td> </td></tr></table>		$\begin{array}{r} 897 \\ + 94 \\ \hline \end{array}$
$+$	$\begin{array}{r} 594 \\ \hline 897 \end{array}$	$+$	$\begin{array}{r} 94 \\ \hline \end{array}$

13

2	

13 $356 + 25 - 34 =$

14

2	

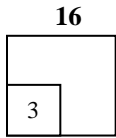
14 $3 \text{ thousands} + 2 \text{ hundreds} + 8 \text{ ones} =$

15

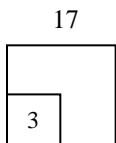
2	

15 $8952 - 3421 =$

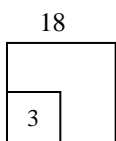
- 16** Setiap murid perempuan di dalam sebuah kelas membeli 2 batang pensel terdapat 6 orang murid perempuan di dalam kelas itu. Berapa batang penselkah yang dibeli oleh mereka semuanya



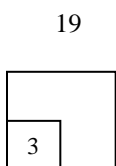
-
- 17** Terdapat 116 biji gula di dalam botol A dan 248 biji gula di dalam botol B. Berapakah beza bilangan gula di dalam dua botol itu?



-
- 18** Puan Ho telah menjual 250 batang pen dan masih ada 435 batang pen. Berapa batang penlah yang dia ada pada mulanya.



-
- 19** Terdapat 49 orang pelajar di dalam sebuah dewan dan 18 orang pelajar dalam sebuah kelas. Berapakah orang pelajar yang ada kesemuanya?



20. Siva mengumpul 78 buah botol untuk dikitar semula. Dia menambah 15 buah botol lagi untuk kitar semula. Berapakah buah botol yang dikumpul olehnya sekarang?

20
3