

PENDIDIKAN MUZIK

TAHUN 6

BAHAGIAN A

Bulatkan jawapan yang betul.

1. Sebutan solfa mengikut urutan rendah ke tinggi.

- A mi fa so la ti
- B do mi so la so
- C la so fa mi re
- D re so mi so do

2. Nilai krocet bertitik ialah \_\_\_\_\_.

- A 1
- B  $\frac{1}{2}$
- C  $1\frac{1}{2}$
- D 2

3. Tanda rehat minim ialah \_\_\_\_\_.

- A  $\zeta$
- B  $\text{—}$
- C  $\text{—}$
- D  $\gamma$

4. Nilai not  ialah \_\_\_\_\_.

- A 1
- B 4
- C  $\frac{1}{2}$
- D 2

5. Maksud frasa \_\_\_\_\_.

- A secara putus-putus
- B dalam satu nafas
- C pertukaran nafas
- D semakin lembut

6. Maksud *mp* ialah \_\_\_\_\_.


- A kuat
- B sederhana kuat
- C lembut
- D sederhana lembut

7. Bit/kiraan muzik yang tetap dan konsisten ialah \_\_\_\_\_.


- A detik
- B tempo
- C dinamik
- D meter

8. Alat muzik yang digunakan dalam persembahan Dikir Barat ialah \_\_\_\_\_.

- I maracas
- II rebana
- III canang
- IV gong
- A I, II, dan III
- B II, III, dan IV
- C II dan IV
- D semua di atas





9.  ialah not \_\_\_\_\_.

- A C'
- B G
- C D
- D A

10.  ialah not \_\_\_\_\_.

- A C'
- B G
- C B
- D E


11. Corak irama bagi meter  $\frac{3}{4}$  ialah \_\_\_\_\_.

- A 
- B 
- C 
- D 

12. Corak irama bagi meter  $\frac{4}{4}$  ialah \_\_\_\_\_.

- A 
- B 
- C 
- D 

13. Namakan alat perkusi ini.



- A marakas
- B kastanet
- C dram
- D loceng

14. Alat ini diperbuat daripada kayu, berbentuk bulat, bunyi sederhana kuat dan pendek.

Alat perkusi ini ialah \_\_\_\_\_.

- A kayu tik tok      C kastanet  
B tamborin      D kerincing

15. Unsur tekstur dalam muzik merangkumi \_\_\_\_\_.

- I nipis      III panjang  
II tebal      IV nyaring  
A I dan II      C I, III, dan IV  
B II dan III      D semua di atas

16. Lagu yang bermud sedih biasanya dimainkan dalam tempo yang \_\_\_\_\_.

- A lambat      C cepat  
B sederhana      D semakin laju


17. *Fine* dalam skor lagu bermaksud \_\_\_\_\_.

- A ulang semula      C licin  
B tamat      D lancar


18. Bunyi-bunyian berbentuk perkusi dapat dihasilkan daripada \_\_\_\_\_.

- I Alat perkusi  
II Alat muzik bermelodi  
III Perkusi badan  
IV Alat muzik improvisasi  
A I dan III      C I, II, dan III  
B II, III dan IV      D I, III dan IV

19. Penjarian not C pada rekoder ialah \_\_\_\_\_.



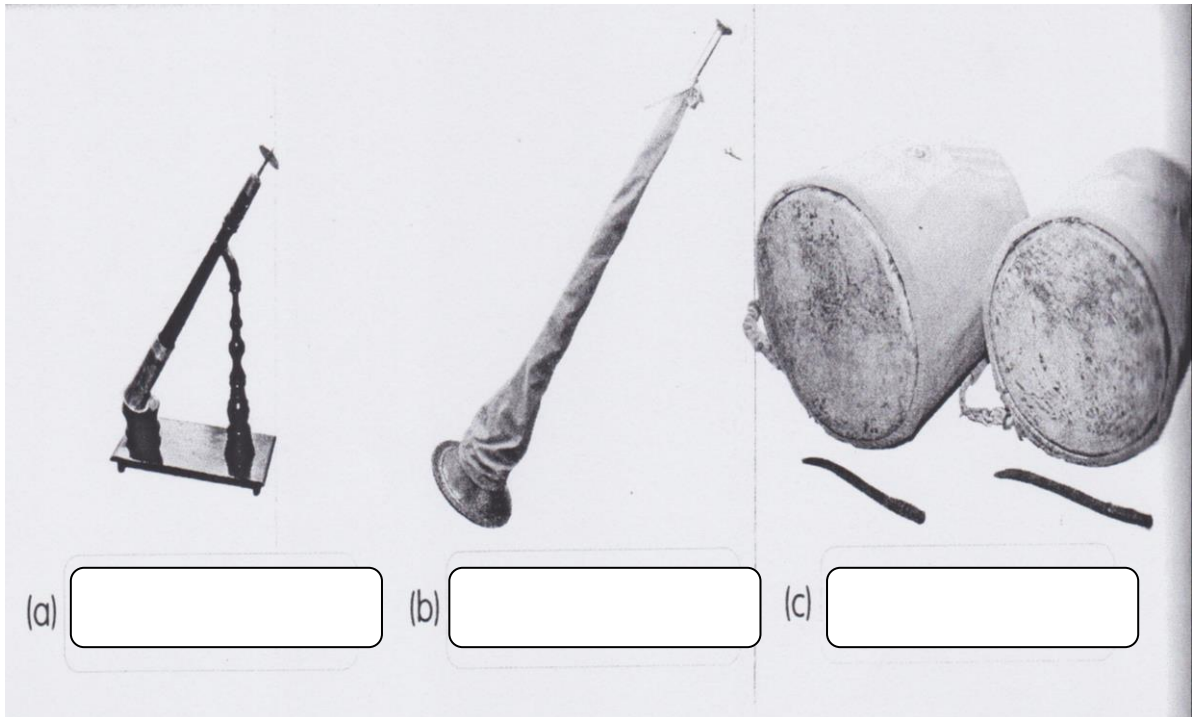
20. Penjarian not A pada rekoder ialah \_\_\_\_\_.



(20 markah)

## Bahagian B

1. Namakan alat muzik yang terdapat dalam ensemble nobat.



2. Suaikan.

Hand gesture cards (clockwise from top-left):

- Hand held flat, palm up.
- Hand held flat, palm down.
- Hand held flat, palm up, with fingers spread.
- Hand held flat, palm down, with fingers spread.
- Hand held flat, palm up, with fingers spread, and the index finger pointing up.
- Hand held flat, palm down, with fingers spread, and the index finger pointing down.
- Hand held flat, palm up, with fingers spread, and the index finger pointing up.
- Hand held flat, palm down, with fingers spread, and the index finger pointing down.

(22 markah)

BAHAGIAN C

Lengkapkan senikata lagu di bawah ini.

KOOKABURRA

Kookaburra \_\_\_\_\_ on the old gum tree

Merry merry \_\_\_\_\_ of the bush is he.

Laugh, kookaburra \_\_\_\_\_,

\_\_\_\_\_, merry merrily

(8 markah)