


## BAHAGIAN A

Pilih jawapan yang paling tepat.

1. Semibrif mempunyai nilai not yang panjang. Semibrif bernilai \_\_\_\_\_.
  - A. 1
  - B. 2
  - C. 3
  - D. 4
  
2. Kuaver merupakan separuh daripada not krocet. Kuaver bernilai \_\_\_\_\_.
  - A. 1
  - B.  $1/2$
  - C. 2
  - D. 4
  
3. Dua krocet bersamaan dengan 1 \_\_\_\_\_.
  - A. kuaver
  - B. minim
  - C. semibrif
  - D. semikuaver

4. Sebutan Kodaly "ti-ti" melambangkan ikon \_\_\_\_\_.

A. 

B. 

C. 

D. 

5. Cepat, sederhana, dan lambat merupakan \_\_\_\_\_ dalam Muzik.

A. dinamik

B. tempo

C. warna ton

D. irama

6. Dinamik terdiri daripada bunyi lembut dan \_\_\_\_\_.

A. cepat

B. laju

C. kuat

D. lembik

7. Apakah nyanyian a cappella?

- A. Gabungan dua, tiga atau empat jenis suara.
- B. Nyanyian berpadu suara secara berkumpulan tanpa iringan ala muzik.
- C. Nyanyian yang dipersembahkan di majlis hari jadi.
- D. Gabungan orang dewasa dan kanak-kanak.

8.  $\frac{4}{4}$  ,  $\frac{2}{4}$  ,  $\frac{3}{4}$  merupakan \_\_\_\_\_.

- A. meter
- B. pecahan
- C. sifir
- D. dinamik

9. Kompang kebiasannya dimainkan pada upacara \_\_\_\_\_.

- A. perhimpunan
- B. pengebumian
- C. perkahwinan
- D. tarian



Gambar 1

10. Klef G juga dikenali sebagai klef \_\_\_\_\_.

- A. alto
- B. trebel
- C. bes
- D. tenor



Gambar 2

11. Gambar 2 menunjukkan not yang bernama \_\_\_\_\_. Ianya bernilai 1.

- A. kuaver
- B. semibrif
- C. krocet
- D. semikuaver



Gambar 3

12. Gambar 3 menunjukkan not yang bernama \_\_\_\_\_. Ianya bernilai 2.

- A. kuaver
- B. semibrif
- C. krocet
- D. minim

13. Berikut adalah alat muzik nobat kecuali
- A. Serunai
  - B. Gitar
  - C. Nahara
  - D. Nafiri
14. Pernyataan manakah yang tidak tepat tentang alat muzik dan negara asalnya
- A. Alphorn -Switzerland
  - B. Sho - Tibet
  - C. Changgo - Korea
  - D. Mvet - Afrika
15. Do Re Mi merupakan \_\_\_\_\_.
- A. nama-nama not
  - B. nilai-nilai not
  - C. nama alat muzik
  - D. solfa
16. Gembira merupakan salah satu \_\_\_\_\_ dalam muzik.
- A. mud
  - B. nilai not
  - C. nama not
  - D. solfa

17. Kompang merupakan alat muzik kaum \_\_\_\_\_.
- A. India
  - B. Cina
  - C. Melayu
  - D. Kadazan
18. Loceng merupakan alat muzik \_\_\_\_\_.
- A. ketuk
  - B. tiup
  - C. petik
  - D. goncang
19. Lagu \_\_\_\_\_ merupakan lagu kebangsaan negara Malaysia.
- A. Sejahtera Malaysia
  - B. Malaysia Maju
  - C. Aku Negaraku
  - D. Negaraku
20. Alat muzik ini menghasilkan bunyi yang lanjut (panjang)
- A Tamburin
  - B Kerincing
  - C Kompang
  - D Kayu Tik Tok

21. ....adalah alat muzik yang bermelodi

A Kompang

B Kayu Tik Tok

C Melodian

D Loceng

|               |              |                |
|---------------|--------------|----------------|
| Gambang       | Saron demong | Gendang Ciblon |
| Bonang barong | Saron barong | Gong besar     |
| Saron pekin   | Kenong       | Gong kecil     |

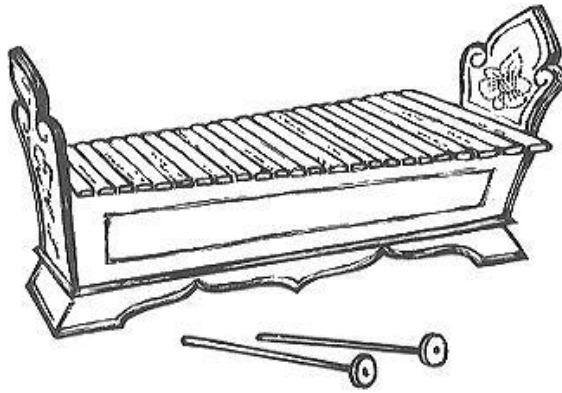
22. Pernyataan di atas adalah merujuk pada alat muzik .....

A Nobat

B Gamelan

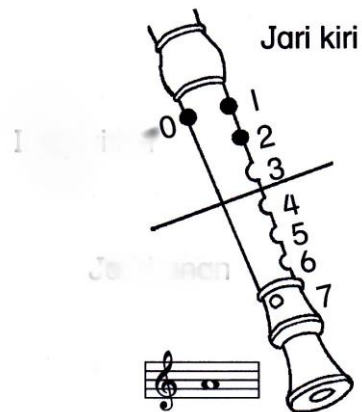
C Kuda kepang

D Keroncong.,



23. Alat muzik diatas dinamakan sebagai.....
- A Saron barong
  - B Gambang
  - C Serunai
  - D Gendang ciblon

Soalan 24 berdasarkan gambar di bawah.



24. Apakah nama not rekoder tersebut?
- A. Not B
  - B. Not A
  - C. Not C'
  - D. Not D'



25. Berikut adalah jenis- jenis rekoder **kecuali**.....

- A. Rekoder bes.
- B. Rekoder Alto.
- C. Rekoder Soprano
- D. Rekoder krocet

26. Lagu " Jalur Gemilang" adalah genre lagu.....

- A. Lagu Tradisional
- B. Lagu Patriotik
- C. Lagu Pop
- D. Lagu Melayu Asli

Soalan 27 merujuk kepada gambar di bawah.



27. Isyarat tangan di atas merujuk kepada .....

- A. Re
- B. Fa
- C. So
- D. Do

Soalan 28 berpandukan gambar di bawah.



28. Gambar di sebelah merujuk sejenis alatan bertali. Alatan manakah yang mempunyai ciri-ciri sama seperti gambar di atas?

- A. Conga
- B. Akordion
- C. Gambus
- D. Tabla

29. Bagaimanakah alat muzik di bawah dimainkan?



- A. Ketuk
- B. Tepuk
- C. Goncang
- D. Hentak

30. Jimmy Boyle merupakan seorang pemuzik jazz Malaysia yang berasal dari .....

A. Sabah

C. Selangor

B. Sarawak

D. Pulau Pinang

----- **KERTAS SOALAN TAMAT** -----

DISEDIAKAN OLEH

DISEMAK OLEH

---

---