

Arahan: Kertas soalan **Bahagian A** berbentuk objektif dan **Bahagian B,C,D,E,F dan G** pula soalan berbentuk subjektif. Anda dikehendaki **menjawab semua soalan** yang diberi dengan jawapan yang **tepat**.

BAHAGIAN A:

1 Apakah ancaman yang membawa kepada pembentukan Persekutuan Malaysia?

- A Lanun
- B Komunis
- C Musuh luar
- D Kuasa Barat

2 Apakah gelaran ketua bagi negeri Melaka?

- A Yang di-Pertua Negeri
- B Yamtuan Besar
- C Sultan
- D Raja

3 Apakah kegunaan alat berikut?



- A Pertanian
- B Menangkap ikan
- C Menghasilkan muzik
- D Alat pertahanan perang

4 Gereja ialah tempat ibadat bagi penganut beragama _____.

- A Hindu
- B Islam
- C Kristian
- D Buddha

5 Pada kebiasaannya ,kita menyambut sesuatu perayaan bertujuan untuk

- A bersuka ria
- B mengeratkan silaturahmi
- C memenuhi tuntutan agama
- D mengingati peristiwa yang bakal berlaku

- | |
|---|
| <ul style="list-style-type: none">• Kheddah• Kadaram |
|---|

6 Apakah negeri yang dimaksudkan di atas?

- A Kelantan
- B Melaka
- C Perak
- D Kedah

7 Semua yang berikut merupakan **sebab-sebab** pembentukan Malaysia **kecuali**

- A memajukan sosioekonomi
- B Menjamin keselamatan negara
- C Mencapai keseimbangan kaum
- D Untuk meneruskan penjajahan British di rantau Asia Tenggara

8 Sebagai rakyat Malaysia,kita hendaklah saling menghormati ketika perayaan agama lain diraikan supaya

- A kita dapat menikmati perayaan kaum lain
- B negara kita sentiasa aman dan damai
- C dapat makan makanan percuma
- D tanda kita sentiasa bersyukur

Soalan 9 berdasarkan rajah di bawah.



9 Gambar di atas merupakan satu amalan ketika merayakan Tahun Baru Cina . Apakah amalan tersebut?

- A Membuat kolam
- B Tradisi makan besar
- C Tradisi minum air tapai
- D Pertandingan Kumang dan Keling

10 Semua yang berikut merupakan permainan tradisional masyarakat Melayu **kecuali**

- A Wau
- B Kabbadi
- C Sepak raga
- D Permainan gasing

Soalan 11 berdasarkan rajah di bawah.



11 Gambar di atas menunjukkan kad ucapan perayaan. Apakah peranan kad tersebut pada musim perayaan?

- A Sebagai tanda ingatan
- B Sebagai tanda kesyukuran
- C Sebagai tanda kenangan
- D Sebagai hadiah

12 Mengapakah majlis rumah terbuka sempena sambutan Hari Raya Aidilfitri wajar dipertahankan?

- A Mengumpul duit raya
- B Mengeratkan perpaduan
- C Menikmati pelbagai juadah
- D Menjadi ilham penulisan karangan

13 Mengapakah kita perlukan masyarakat yang bertoleransi?

- A Penentu kemajuan negara
- B Mengelakkan peperangan
- C Kaum peribumi memerintah
- D Menggalakkan campur tangan luar

14 Mengapakah kita perlu menghayati Rukun Negara?

- A Membangunkan ekonomi rakyat bumiputera
- B Menghargai budaya, bangsa, kaum dan minoriti
- C Melahirkan masyarakat yang bersatu padu
- D Membangkitkan semangat kaum peribumi

15 Mengapakah kita perlu bersukan?

- A Supaya kita mendapat piala
- B Supaya badan kita kekal sihat
- C Supaya kita mendapat pujian daripada guru
- D Supaya kita dapat berbangga dengan kawan

16 Antara berikut, yang manakah sebab pembentukan Malaysia?

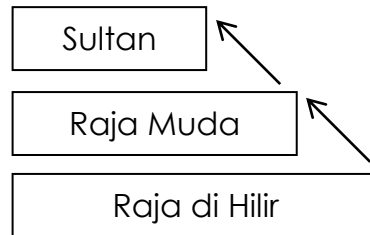
- I Menyekat pengaruh komunis
- II Mempercepatkan kemerdekaan
- III Kemiskinan semakin bertambah
- IV Meningkatkan pengaruh British

- A I dan II
- B I dan IV
- C II dan III
- D III dan IV

17 Mengapakah pihak komunis berusaha untuk mendapatkan Negeri Sarawak?

- A Menguasai pentadbiran
- B Mengawal kuasa Sultan Brunei
- C Menguasai industri pembalakan
- D Menyatukan suku kaum yang ada

18 Rajah berikut menunjukkan sistem penggiliran perlantikan Sultan



Negeri manakah yang mengamalkan sistem di atas?

- A Perak
 - B Kelantan
 - C Kedah
 - D Pahang
- 19 Siapakah yang telah mengharumkan nama negara dalam acara sukan skuasy?
- A Shalin Zulkifli
 - B Datuk Lee Chong Wei
 - C Datuk Nicol Ann David
 - D Pandelega Rinong Anak Pamg
- 20 Pahang terkenal dengan pusat peranginan tanah tinggi. Berikut merupakan tarikan yang terdapat di Cameron Highlands.
- A Ladang teh
 - B Taman tema
 - C Hutan simpan kekal
 - D Empangan terbesar

(20 markah)

BAHAGIAN B:

Padankan dengan jawapan yang betul dengan menulis nombor pada petak jawapan.

<p>Sikap untuk berjaya bagi seseorang pemimpin sukan.</p>	<p><input type="radio"/> Berdisiplin, mematuhi jadual latihan, dan kesungguhan bertanding.</p>
<p>Sikap untuk berjaya bagi seseorang atlet.</p>	<p><input type="radio"/> Kelayakan penyertaan, memperbaharu rekod dan meningkatkan pungutan pingat.</p>
<p>Ukuran pencapaian bagi seseorang pemimpin sukan.</p>	<p><input type="radio"/> Dapat menyediakan pelbagai kemudahan sukan dan berjaya mengendalikan sukan-sukan bertaraf dunia.</p>
<p>Ukuran keupayaan sesebuah negara menganjurkan sukan bertaraf antarabangsa.</p>	<p><input type="radio"/> Merancang strategi berkesan, bijak merancang dan sentiasa mendorong . . .</p>
<p>Ukuran pencapaian bagi seseorang atlet.</p>	<p><input type="radio"/> Keberkesanan latihan, berpandangan jauh dan berkongsi kemahiran.</p>

(10 markah)

BAHAGIAN C:

Lengkapkan ruang jawapan berikut tentang asal usul nama beberapa buah negeri di negara kita.

Kolamtanah

Pokok mahang

Kalagam

Bahan logam

Ikan berwarna

Harimau


Ho-lan-tan

Fahan

Taring anu

Kheddah

A




- _____
- _____

B




- _____
- _____

C




- _____
- _____

D



- _____
- _____

E



- _____
- _____

(10 markah)

BAHAGIAN D:

Nomborkan kronologi bagaimana jawatan Perdana Menteri di wujudkan.

Kewujudan Jawatan Perdana Menteri di negara kita

()

Pada 31 Ogos 1957, Persekutuan Tanah Melayu mencapai kemerdekaan. Tunku Abdul Rahman Putra Al-Haj dilantik sebagai Perdana Menteri.

()

Kemenangan tersebut membolehkan Tunku Abdul Rahman Putra Al-Haj selaku Ketua Parti Perikatan dilantik sebagai Ketua

()

27 Julai 1955, Pilihan Raya Majlis Perundangan Persekutuan telah diadakan sebagai langkah berkerajaan sendiri, Persekutuan

()

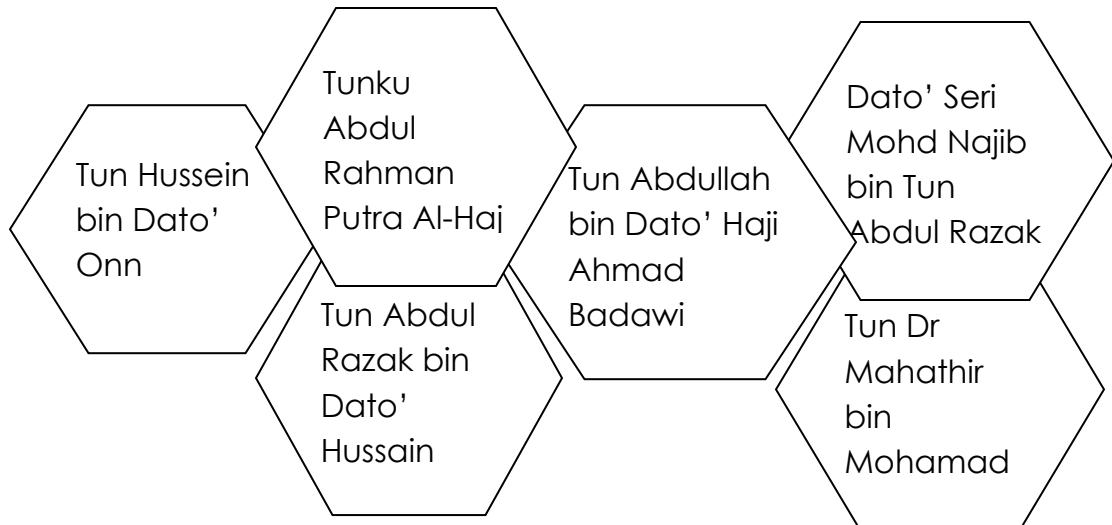
Parti Perikatan iaitu United Malays Nation Organization (UMNO), Malayan Chinese Association (MCA) dan Malayan Indian Association (MIC) telah memenangi 51 daripada 52 kerusi yang dipertandingkan.

()

Jawatan Perdana Menteri ini telah dikekalkan selepas pembentukan Malaysia dan diteruskan hingga kini.

(5 markah)

BAHAGIAN E: Susun semula Perdana Menteri dari dahulu hingga sekarang dengan **betul**.



1. _____
2. _____
3. _____
4. _____
5. _____
6. _____

(6 markah)

BAHAGIAN F: Namakan **empat** atlet yang mengharumkan nama negara dalam acara sukan . **(4 markah)**

Atlet	Sukan
1.	
2.	
3.	
4.	

BAHAGIAN G: Padankan temasya sukan berikut dengan logonya.

Sukan Olimpik



Sukan Komanwel



Sukan SEA



Badminton All England



Sukan Asia



(5 markah)

KERTAS SOALAN TAMAT