

PERCUMIA

M

KSIRAN

PBD

CEMERLANG

LESTARI

KSSR

SEMAKAN

6

SEJARAH

*Ujian Akhir Sesi
Akademik
(UASA)*



**Format
Terbaharu**

UJIAN AKHIR SESI AKADEMIK TAHUN ENAM

1 JAM 15 MINIT

NAMA MURID:

KELAS :

SEJARAH – TAHUN ENAM

JANGAN BUKA KERTAS SOALAN INI SEHINGGA DIBERITAHU

- Kertas soalan ini mengandungi tiga bahagian utama: Bahagian A, Bahagian B dan Bahagian C.
- Kamu dikehendaki menjawab semua soalan yang disediakan dalam ketiga-tiga bahagian ini.
- Bagi soalan objektif, setiap soalan diikuti oleh empat pilihan jawapan, iaitu: A, B, C, D. Pilih satu jawapan sahaja.
- Bagi soalan subjektif pula, jawab semua soalan dalam ruangan jawapan yang telah disediakan.
- Serahkan kertas ujian yang sudah kamu jawab itu kepada guru yang bertugas pada akhir ujian tersebut.

Untuk Kegunaan Pemeriksa			
Nama Pemeriksa:			
BAHAGIAN Nombor Soalan		Markah Penuh	Markah Diperoleh
A	Soalan 1 – 20	20	
B	Soalan 1	5	
	Soalan 2	5	
	Soalan 3	5	
	Soalan 4	5	
C	Soalan 1	5	
	Soalan 2	5	
JUMLAH		50	

Kertas peperiksaan ini mengandungi 10 halaman bercetak.

BAHAGIAN A

Markah
/20

Jawab semua soalan.

1. Jawatankuasa Antara Kerajaan (JAK) ditubuhkan bagi menyediakan rangka perlembagaan kemasukan Sarawak dan Sabah ke dalam Malaysia. Mengapakah demikian?
- A Meyakinkan pemimpin
 - B Menerangkan gagasan
 - C Mendapatkan persetujuan
 - D Melindungi kepentingan negeri tersebut

2. Gambar berikut menunjukkan peristiwa penting kepada negara kita pada 9 Julai 1963.



Apakah peristiwa tersebut?

- A Majlis Pemasyhuran Malaysia
 - B Majlis menandatangani Perjanjian Malaysia
 - C Pengumuman cadangan pembentukan Malaysia
 - D Majlis menandatangani Perjanjian Kemerdekaan Persekutuan Tanah Melayu
3. Mengikut *Salalatus Salatun*, nama Pahang dikenali sebagai Inderapura atau Pura. Apakah maksud "Pura"?

- A Pekan
- B Negeri
- C Daerah
- D Kawasan

4. Jadual berikut menunjukkan ibu negeri dan bandar diraja.

Ibu Negeri	Bandar Diraja
Johor Bahru	Bandar Maharani
Ipoh	Kuala Kangsar
Seremban	X

Apakah X?

- A Arau
 - B Nilai
 - C Jelevu
 - D Seri Menanti
5. Gambar berikut menunjukkan Istana Kehakiman, Putrajaya.



Apakah prinsip Rukun Negara yang berkaitan dengan gambar tersebut?

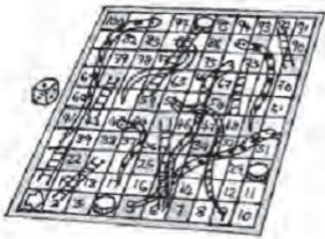
- A Keluhuran Perlembagaan
- B Kedaulatan Undang-undang
- C Kepercayaan kepada Tuhan
- D Kesetiaan kepada Raja dan Negara

6. Kaum berikut merupakan kaum terbesar di Sabah.

Kadazandusun

Apakah bahasa yang digunakan untuk bertutur?

- A Bahasa Iban
 B Dialek Sukuan
 C Bahasa Melayu
 D Bahasa Kristang
7. Gambar berikut menunjukkan permainan tradisional masyarakat Malaysia.



Apakah nama permainan tersebut?

- A Weiqi
 B Diabolo
 C Chaturangam
 D Paramapadham
8. Antara yang berikut, yang manakah merupakan jenis cerita rakyat?
 I Novel
 II Cerpen
 III Cerita hikayat
 IV Cerita binatang
- A I dan II C II dan III
 B I dan IV D III dan IV
9. Maklumat berikut berkaitan dengan kepercayaan masyarakat Orang Asli.

Percaya pada semangat dan roh

Apakah bentuk kepercayaan tersebut?

- A Idealisme C Dinamisme
 B Animisme D Nasionalisme

10. Agama Islam telah termaktub dalam Perkara 3 Perlembagaan Persekutuan sebagai agama persekutuan. Bagaimanakah dengan kedudukan agama lain?

- A Bebas bersyarat
 B Bebas untuk diamalkan
 C Tiada kebebasan beragama
 D Terhadap kepada agama tertentu

11. Gambar berikut menunjukkan perayaan Hari Raya Aidilfitri.



Mengapakah perayaan tersebut diraikan?

- A Mengingati peristiwa hijrah
 B Menghargai pengorbanan Nabi Ibrahim a.s.
 C Meraikan kelahiran Nabi Muhammad SAW
 D Menandakan kegembiraan selepas menjalani ibadah puasa
12. Antara berikut, amalan yang manakah masih dikekalkan ketika menyambut perayaan?
 I Memberi angpau
 II Balik ke kampung
 III Bertukar-tukar hadiah
 IV Swafoto bersama keluarga
- A I dan II
 B I dan IV
 C II dan III
 D III dan IV

13. Dato' Onn bin Jaafar, iaitu bapa kepada Perdana Menteri ketiga, Tun Hussein bin Onn telah mengasaskan UMNO.

Mengapakah beliau menubuhkan UMNO?

- A Menyertai pilihan raya
- B Mencabar penguasaan British
- C Menjaga keistimewaan Melayu
- D Bersatu menentang Malayan Union

14. Siapakah yang telah memperkenalkan gagasan berikut?

Gagasan 1Malaysia

- A Tun Abdullah Ahmad Badawi
- B Tan Sri Mahiaddin Md Yassin
- C Dato' Seri Ismail Sabri Yaakob
- D Dato' Seri Mohd Najib Tun Abdul Razak

15. Di manakah industri petroleum di negara kita bermula?

- A Miri, Sarawak
- B Sandakan, Sabah
- C Kerteh, Terengganu
- D Kota Bharu, Kelantan

16. PROTON merupakan pengeluar kereta pertama di negara kita.

Apakah model kereta pertama negara?

- A Proton Wira
- B Proton X50
- C Proton Saga
- D Proton Persona

17. Acara penutup bagi kalendar kejohanan berikut diadakan di negara kita.

Piala Monsun

Di manakah lokasi penganjurannya?

- A Cherating, Pahang
- B Pantai Balok, Pahang
- C Pulau Duyong, Terengganu
- D Simpang Mengayau, Sabah

18. Malaysia telah menjadi antara anggota terawal dalam ASEAN.

Bilakah Malaysia menyertai ASEAN?

- A Tahun 1957 C Tahun 1961
- B Tahun 1959 D Tahun 1967

19. Antara sumbangan Malaysia dalam Komanwel ialah membantu menamatkan dasar Aparteid.

Negara manakah yang mengamalkan dasar tersebut?

- A Malawi
- B Mozambique
- C Afrika Selatan
- D Republik Rwanda

20. Apakah sumbangan Malaysia dalam Pertubuhan Bangsa-Bangsa Bersatu (PBB)?

- A Membina pusat pendidikan
- B Mengutarakan penubuhan ZOPFAN
- C Membawa isu perjuangan rakyat Palestin
- D Menawarkan kemudahan biasiswa pendidikan

BAHAGIAN B

Markah
/20

Jawab semua soalan.


I. Padankan gambar berikut dengan nama permainannya.




← (i) Permainan Weiqi




← (ii) Permainan Gasing



← (iii) Permainan Batu Seremban



← (iv) Permainan Paramapadham



← (v) Permainan Kabaddi

[5 markah]

[Lihat halaman sebelah
Set I

2. Tulis (BENAR) bagi pernyataan yang betul dan (PALSU) bagi pernyataan yang salah.

Soalan	Pernyataan	Jawapan
A	Setiap agama di Malaysia bebas untuk mendirikan rumah ibadat dan menjalankan aktiviti keagamaan masing-masing.	
B	Rakyat Malaysia tidak mempunyai hak untuk mengamalkan agama dan kepercayaan masing-masing.	
C	Perlembagaan negeri Melaka, Pulau Pinang, Sabah dan Sarawak memperuntukkan kedudukan Yang di-Pertuan Besar sebagai ketua negeri di negeri itu.	
D	Segala perubahan yang berkaitan dengan kedudukan agama Islam dalam Perlembagaan Persekutuan perlu mendapat perkenan titah Yang di-Pertuan Agong dan Raja-Raja Melayu.	
E	Kebebasan beragama mengikut Perlembagaan Persekutuan mewujudkan masyarakat yang saling memahami dan menghormati kaum lain.	


[5 markah]

3. Nyatakan prinsip Rukun Negara yang bersesuaian dengan gambar di bawah.

- Kepercayaan kepada Tuhan
- Kesetiaan kepada Raja dan Negara
- Keluhuran Perlembagaan
- Kedaulatan Undang-undang
- Kesopanan dan Kesusilaan



A. _____



B. _____



C. _____



D. _____

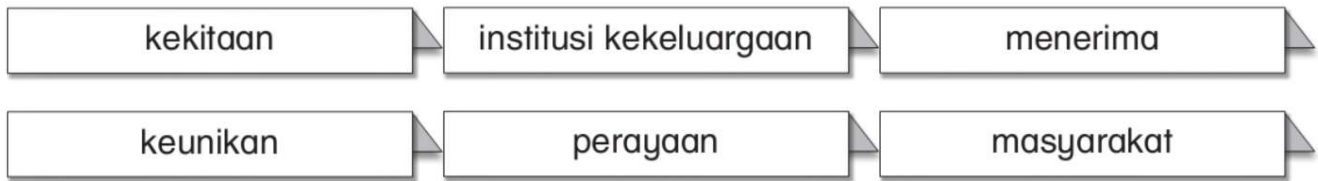


E. _____

[5 markah]

[Lihat halaman sebelah
Set I

4. Isikan tempat kosong dengan pilihan jawapan yang tepat.



- A. Sambutan pelbagai perayaan di Malaysia merupakan _____ dan keistimewaan yang patut dibanggakan oleh masyarakat di negara kita.
- B. Tradisi perayaan bukan sahaja dapat memupuk semangat _____ dalam keluarga, malah dapat menyedarkan generasi muda tentang kekayaan khazanah budaya di negara kita.
- C. Sikap _____ dan saling menghormati masyarakat Malaysia terhadap kebudayaan kaum lain telah berjaya memelihara warisan perayaan di negara kita.
- D. Tradisi sambutan perayaan dapat membentuk _____ yang kukuh dan menanam sikap saling menghormati antara ahli keluarga.
- E. Kepelbagaian _____ dan warisan kebudayaan ini harus dihargai agar dapat mengekalkan keharmonian dan kesejahteraan negara.

[5 markah]

BAHAGIAN C**Markah**
/10

Jawab semua soalan.

1. Gambar di bawah menunjukkan Perdana Menteri kedua, iaitu Tun Abdul Razak bin Hussein.



- (a) Nyatakan pencapaian negara semasa zaman pemerintahan Perdana Menteri di atas.

[2 markah]

- (b) Mengapakah pemimpin yang berwibawa penting bagi sesebuah negara?

[3 markah]

2. (a) Mengapakah aktiviti sukan amat penting kepada negara?

[2 markah]

(b) Nyatakan langkah yang boleh dilakukan untuk memajukan sukan negara.

[3 markah]

CONTOH

UJIAN AKHIR SESI AKADEMIK TAHUN ENAM

1 JAM 15 MINIT

NAMA MURID:

KELAS :

SEJARAH – TAHUN ENAM

JANGAN BUKA KERTAS SOALAN INI SEHINGGA DIBERITAHU

1. Kertas soalan ini mengandungi tiga bahagian utama: **Bahagian A, Bahagian B dan Bahagian C.**
2. Kamu dikehendaki menjawab **semua soalan** yang disediakan dalam ketiga-tiga bahagian ini.
3. Bagi soalan objektif, setiap soalan diikuti oleh **empat** pilihan jawapan, iaitu: **A, B, C, D.** Pilih **satu** jawapan sahaja.
4. Bagi soalan subjektif pula, jawab **semua soalan** dalam ruangan jawapan yang telah disediakan.
5. Serahkan **kertas ujian** yang sudah kamu **jawab** itu kepada guru yang bertugas pada akhir ujian tersebut.

Untuk Kegunaan Pemeriksa			
Nama Pemeriksa:			
BAHAGIAN Nombor Soalan		Markah Penuh	Markah Diperoleh
A	Soalan 1 – 20	20	
B	Soalan 1	5	
	Soalan 2	5	
	Soalan 3	5	
	Soalan 4	5	
C	Soalan 1	5	
	Soalan 2	5	
JUMLAH		50	

Kertas peperiksaan ini mengandungi 10 halaman bercetak.

BAHAGIAN A

Markah
/20

Jawab semua soalan.

1. Siapakah yang mencadangkan penggabungan Sarawak, Sabah, Singapura dan Brunei dalam Persekutuan Tanah Melayu?

- A Lord Brassey
- B Ibrahim Haji Yakob
- C Malcolm MacDonald
- D Tunku Abdul Rahman Putra Al-Haj

2. Pertubuhan Bangsa-Bangsa Bersatu (PBB) telah mewujudkan satu badan untuk mengesahkan persetujuan penduduk Sarawak dan Sabah.

Apakah badan tersebut?

- A Suruhanjaya Cobbold
- B Jawatankuasa Antara Kerajaan (JAK)
- C United Nations Malaysia Mission (UNMM)
- D Jawatankuasa Setia Kawan Malaysia (JSKM)

3. Apakah kumpulan etnik terbesar di Sabah?

- A Iranun
- B Bidayuh
- C Kedayan
- D Kadazandusun

4. Antara berikut, yang manakah merupakan alat muzik masyarakat Sarawak?

- I Sape
 - II Sompoton
 - III Engkerumong
 - IV Tongkungan
- A I dan II C II dan III
B I dan III D III dan IV

5. Maklumat berikut berkaitan kepelbagaian kaum di Malaysia.

- Bertutur dalam bahasa Mandarin, Kantonis, Hokkien.
- Pakaian tradisional ialah ceongsam dan changsan.

Kaum apakah yang berkaitan dengan pernyataan di atas?

- A Cina
- B Iban
- C India
- D Melayu

6. Maklumat berikut berkaitan perayaan utama di Malaysia.

Pesta ini disambut oleh golongan petani bagi mensyukuri hasil tuaian.

Apakah nama perayaan yang dimaksudkan di atas?

- A Vaisakhi
- B Hari Gawai
- C Hari Wesak
- D Pesta Kaamatan

7. Jadual berikut menunjukkan agama dan rumah ibadatnya. Pilih padanan yang betul bagi jadual tersebut.

	Agama	Rumah Ibadat
A	Kristian	Wat
B	Hindu	Wadda
C	Konfusius	Tokong
D	Buddha	Kuil

8. Antara berikut, yang manakah tugas Perdana Menteri yang betul?

- I Menjalinkan hubungan diplomatik dengan negara luar
- II Memperkenalkan Rang Undang-Undang
- III Mempengurusikan Mesyuarat Jemaah Menteri
- IV Mengurniakan darjat kebesaran

- A I dan II
- B I dan III
- C II dan III
- D III dan IV

9. Di manakah terletak The Grand Old Lady, iaitu telaga minyak pertama di negara kita?

- A Sabah
- B Sarawak
- C Kelantan
- D Terengganu

10. Antara berikut, yang manakah merupakan permainan anjung?

- A Wau
- B Kabaddi
- C Sepak manggis
- D Paramapadham

11. Maklumat berikut berkaitan penganjuran sukan di Malaysia.

- Diperkenalkan pada tahun 2011.
- Setiap murid terlibat dalam bidang sukan.

Penganjuran sukan apakah yang dimaksudkan di atas?

- A Dasar 1Murid 1Sukan (1M1S)
- B Sukan Institusi Pendidikan Tinggi (SUKIPT)
- C Rancangan Integrasi Murid Untuk Perpaduan (RIMUP)

D Kejohanan Majlis Sukan Sekolah Malaysia (MSSM)

12. Gambar berikut menunjukkan Perdana Menteri Malaysia keempat dan ketujuh.



Apakah gelaran yang telah dinobatkan kepada beliau?

- A Baba Perpaduan
- B Baba Pemodenan
- C Baba Kemerdekaan
- D Baba Pembangunan Modal Insan

13. Apakah matlamat penubuhan Association of Southeast Asian Nations (ASEAN)?

- I Meningkatkan taraf hidup penduduk
- II Menjamin keamanan dan kestabilan politik
- III Mengeratkan hubungan dan keamanan sesama negara Islam
- IV Bekerjasama menyelesaikan masalah antarabangsa

- A I dan II
- B I dan III
- C II dan III
- D III dan IV

14. Pada tahun bilakah Organisation of Islamic Cooperation (OIC) mula ditubuhkan?

- A 1931
- B 1945
- C 1967
- D 1969

15. Siapakah yang memperjuangkan idea penggabungan melalui konsep Melayu Raya pada tahun 1938?

- I Lord Brassey
 - II Malcolm MacDonald
 - III Ibrahim Haji Yaakob
 - IV Harun Aminurrashid
- A I dan II
B I dan III
C II dan III
D III dan IV

16. Gambar berikut menunjukkan salah satu bendera negeri di Malaysia.



Apakah nama lagu negeri di atas?

- A Selamat Sultan
B Allah Lanjutkan Usia Sultan
C Allah Selamatkan Sultan Kami
D Berkatlah Yang di-Pertuan Besar

17. Apakah bidang sukan yang boleh dikaitkan dengan tokoh berikut?

- Pandelega Rinong
- Nurul Huda Abdullah

- A Hoki
B Renang
C Olahraga
D Badminton

18. Apakah sumbangan Malaysia dalam Pertubuhan Bangsa-Bangsa Bersatu (PBB)?

- A Mengutarakan penubuhan ZOPFAN
B Mengecam dasar Aparteid di Afrika Selatan
C Mencari penyelesaian kepada konflik Palestin-Israel
D Membantu penubuhan Bank Pembangunan Islam pada tahun 1975

19. Maklumat berikut berkaitan sukan antarabangsa di Malaysia.

Malaysia menjadi tuan rumah siri kejohanan sukan perahu layar sejak tahun 2005.

Sukan antarabangsa apakah yang dimaksudkan di atas?

- A Piala Thomas
B Piala Monsun
C Sukan Komanwel
D *Le Tour de Langkawi*

20. Antara berikut, yang manakah ciri-ciri ekonomi komersial?

- A Diusahakan secara kecil-kecilan
B Untuk kegunaan tempatan dan eksport
C Menggunakan peralatan yang mudah
D Memerlukan modal yang kecil dan tenaga kerja yang tidak banyak

MODUL
PENTAKSIRAN

PBD

i-LESTARI

KSSR
SEMAKAN



69

MODUL PENTAKSIRAN (PBD)

i-LESTARI

KSSR SEMAKAN

SEJARAH

Ujian Akhir Sesi Akademik

(UASA)

CEME RLANG

Cemerlang Publications Sdn. Bhd. (223860-U)

Lot 1 & 2, Jalan BS 7/1A, Taman Bukit Serdang, Seksyen 7,
43300 Seri Kembangan, Selangor Darul Ehsan.

- Bhg. Penjualan & Perakaunan: 03-8959 2001/ 3001/ 4003/
2525/ 8953 8999
- Faks: 03-8957 3611/ 03-8958 6464
- Bhg. Editorial: 03-8941 7748/ 03-8941 4137
- Sales Department: cemerlangsalesdept@gmail.com
- E-mel: admin@cemerlang.com.my

Dicetak oleh Swan Printing Sdn. Bhd. (274710-X)

Ref: K-23101-27(C)

ISBN 978-967-252-544-8



9 789672 525448

CEME RLANG