


PEPERIKSAAN AKHIR TAHUN  
SK. SAHABAT II, LAHAD DATU.  
PENDIDIKAN MUZIK  
TAHUN ENAM

Nama: .....

Tahun : .....

**BAHAGIAN A ( 20 markah)**

Bulatkan jawapan yang betul berdasarkan soalan-soalan yang berikut.



Soalan 1 – 2 adalah berdasarkan

gambarajah diatas.

1. Not di atas dikenali sebagai \_\_\_\_\_  

A: minim	C: kuaver
B: krocet	D: semibrif
  
2. Nilai not di atas adalah \_\_\_\_\_  

A: 2	C: 3
B : 4	D: 1



Gambarajah A


3. Simbol di atas adalah simbol yang ditulis di hujung garisan baluk. Apakah nama simbol tersebut?  

A: rehat	C: klef trebel
B : krocet	D: klef trouble



4. Rajah diatas menunjukkan tanda rehat bagi not \_\_\_\_\_?  

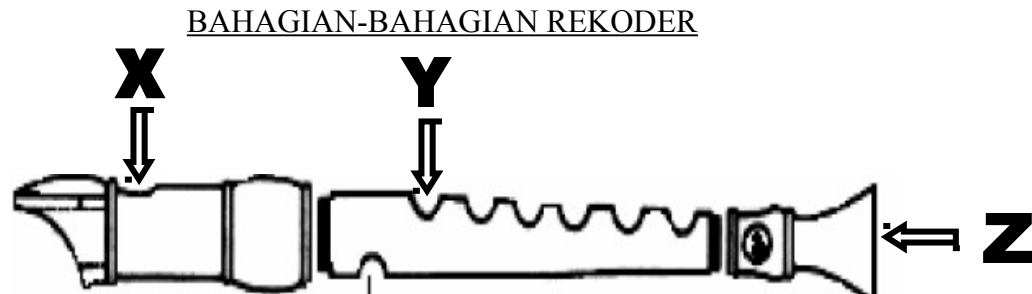
A: semibrif	C: minim
B : krocet	D: kuaver



5. Garis baluk mempunyai \_\_\_\_\_ garis dan \_\_\_\_\_ ruang.

A: 3, 4  
B: 5, 4

C: 6, 7  
D: 2, 4



6. Bahagian X ialah:

A: Celah / lubang suara  
B: Bahagian kaki

C: mouthpiece  
D: Bahagian belakang

7. Bahagian Y ialah:

A: Lubang nada 2  
B: Lubang nada 3

C: Lubang nada 1  
D: Lubang nada akhir

8. Bahagian Z ialah:

A: Lubang oktaf (di bawah)  
B: Lubang nada 8

C: Lubang udara  
D: Lubang suara

9. Rekoder yang biasa digunakan dalam pembelajaran di sekolah adalah rekoder jenis \_\_\_\_\_.

A: alto  
B: bass

C: sopranino  
D: soprano

10. Bunyi tiupan rekoder yang paling tepat ialah:

A: hu  
B: cu

C: tu  
D: mu


11. Kedudukan postur berdiri murid yang betul ketika bermain rekoder ialah dengan mencondongkan rekoder dari badan mengikut kecondongan \_\_\_\_\_.

A: 35 darjah  
B: 90 darjah

C: 45 darjah  
D: 80 darjah



Soalan 16 dan 17 adalah berdasarkan gambar di bawah.



16. Apakah nama alat muzik dalam gambar tersebut?
- A: Rebana  
B: Angklung  
C: Gong  
D: Sumpitan
17. Pada kebiasannya alat muzik tersebut diperbuat dari \_\_\_\_\_
- A: Plastik  
B: Batu  
C: Bambu  
D: Rotan
18. Semasa menyanyikan lagu kebangsaan di perhimpunan, murid-murid hendaklah \_\_\_\_\_
- A: berdiri tegak  
B: berdiri  
C: berdiri tegak dan tangan di belakang  
D: berdiri tegak dan tangan di sisi
19. Yang manakah lagu-lagu patriotik?
- i Perwira  
ii Ilham pujangga  
iii Wawasan 2020  
iv Putra putri
- A: i dan iii  
B: i, ii dan iii  
C: i, iii dan iv  
D: i, ii, iii dan iv



20. Pembentukan mulut bagi gambarajah diatas ialah:
- A: Eh  
B: Ah  
C: Oh  
D: Uh

## BAHAGIAN B (20 markah)

Lengkapkan lirik lagu di bawah.

### **Sehati Sejiwa**

Demi tanah yang bertuah

Taman \_\_\_\_\_ merdeka

Kasih \_\_\_\_\_ hatiku ini

Untukmu \_\_\_\_\_ pertiwi

Dari \_\_\_\_\_ selatan

Juga \_\_\_\_\_ ke barat

Turut gagah \_\_\_\_\_ Sarawak

Sehati Sejiwa

#### **Chorus**

Ku dengar janjimu, \_\_\_\_\_ Kinabalu

Ku dengar sumpahmu, Rejang yang \_\_\_\_\_

Bersatu denganku, tegap Titiwangsa

Malaysia \_\_\_\_\_ sejiwa

#### **Bridge**

Laut \_\_\_\_\_ terbentang, bukan satu halangan

Untuk kita bersama, \_\_\_\_\_ janji setia

Demi mu Malaysia, cinta kasih di \_\_\_\_\_

\_\_\_\_\_ akan kami khianatinya

#### **Chorus**

Walaupun berbeza, \_\_\_\_\_ Agama

Bukanlah penghalang, Kita bergandingan

Marilah \_\_\_\_\_, sehati sejiwa

Malaysia Kekal Sejahtera

... Korus Iban Kadazan...

(Miiso \_\_\_\_\_) kadazan

(Kitai Dekak Mujur) iban

(Miiso ginavo)kadazan

(Ngetan Ke \_\_\_\_\_) iban

(\_\_\_\_\_ ginavo) kadazan

(Nyuluk \_\_\_\_\_ Mulia) iban

\_\_\_\_\_ Sehati Sejiwa

**BAHAGIAN C (12 markah)**

Namakan alat muzik di bawah.

gong

gendang

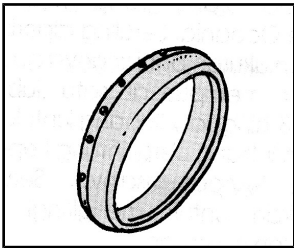
seruling

kompang

rebana kecil

trompet


1.



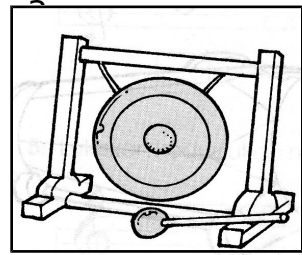
\_\_\_\_\_

\_\_\_\_\_

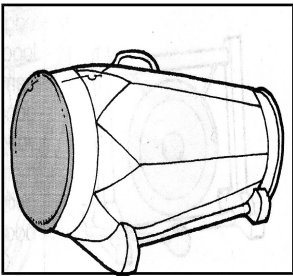
2.



\_\_\_\_\_




4.




\_\_\_\_\_

5.




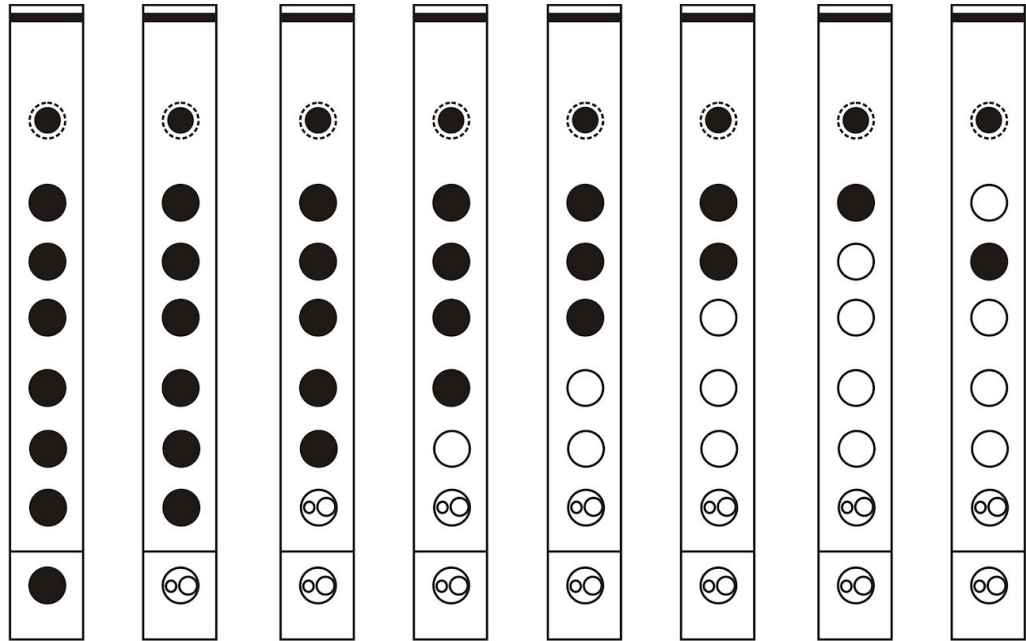
\_\_\_\_\_



\_\_\_\_\_

**BAHAGIAN D (8 markah)**

Tuliskan NOT rekorder tersebut dengan tepat.



g

a

b

c'

Disediakan oleh,

.....  
**(FELIX JOSEPH LIWASA)**  
Guru Pendidikan Muzik Tahun 6,  
SK. Sahabat II, Lahad Datu.

Disemak oleh,

.....  
**(HAIRIE ROSDIANSYAH BIN HAMID)**  
Ketua Panatia Pendidikan Muzik,  
SK. Sahabat II, Lahad Datu.

Disahkan oleh,

.....  
**(RAJID BIN AB RASHID)**  
Guru Besar,  
SK. Sahabat II, Lahad Datu.



