

NAMA : \_\_\_\_\_

KELAS : \_\_\_\_\_

**SULIT**

015

MATEMATIK

2017

1 JAM 15 MINIT

---

# UJIAN 1

---

**MATEMATIK**

**TAHUN 1**

**1 jam 15 minit**

---

**JANGAN BUKA KERTAS SOALAN SEHINGGA DIBERITAHU**

ARAHAN:

1. Kertas soalan ini mengandungi 40 soalan.
2. Jawab semua soalan.

Kertas soalan ini mengandungi 11 halaman bercetak

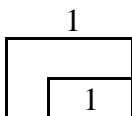
[Lihat sebelah]

**SULIT**

*Jawab semua soalan. Tulis jawapan di ruang yang disediakan.*

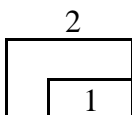
1 Isi nombor yang tertinggal di dalam kotak. [ 1 markah ]

1	2		4	5	6
---	---	--	---	---	---



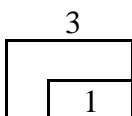
2 Cari nombor yang tertinggal. [ 1 markah ]

5	6	7	8		10
---	---	---	---	--	----




3 Cari nombor yang tertinggal. [ 1 markah ]

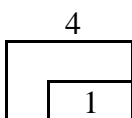
3		5	6	7	8
---	--	---	---	---	---



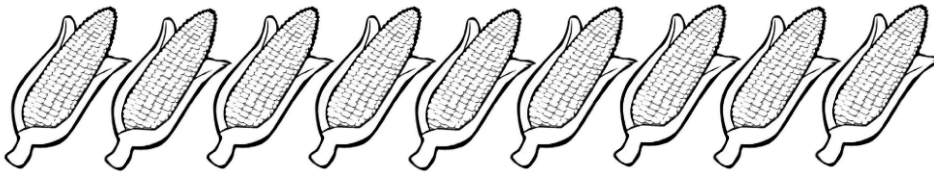
4 Kira dan bulatkan nombor yang tepat. [ 1 markah ]



4	6	9
---	---	---



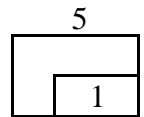
5 Kira dan bulatkan nombor yang tepat. [ 1 markah ]



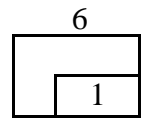
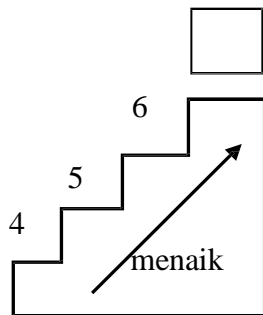
**9**

**10**

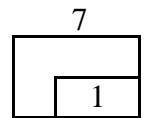
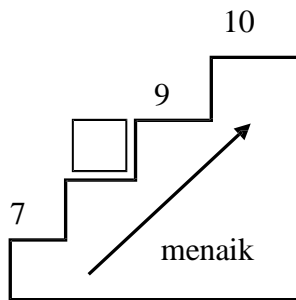
**8**



6 Isikan nombor yang tertinggal. [ 1 markah ]

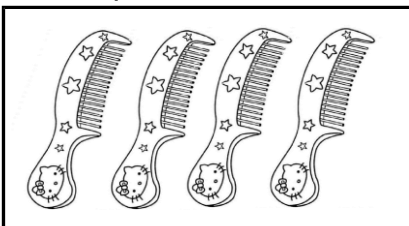


7 Isikan nombor yang tertinggal. [ 1 markah ]

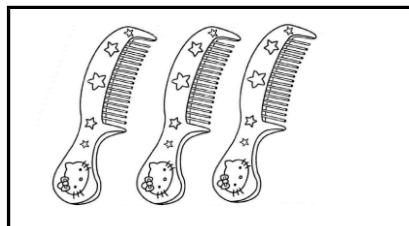


8 Selesaikan masalah ini. [ 1 markah ]

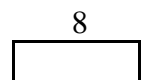
Hafis mempunyai 4 sikat, Ridhwan mempunyai 3 sikat.  
Berapakah sikat kesemuanya?



dan

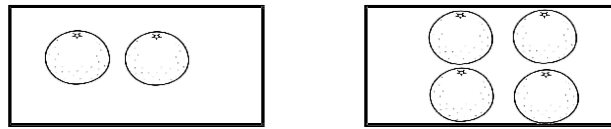


sikat semuanya.



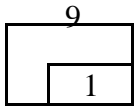


- 9 Tuliskan ayat matematik untuk pernyataan berikut. [ 1 markah ]



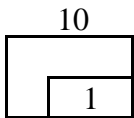
2 tambah 4 bersamaan 6

$$2 + \square = 6$$

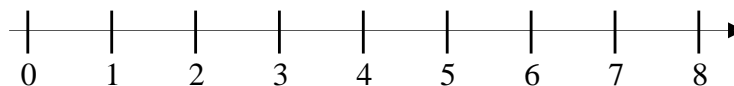


- 10 Isi tempat kosong dengan jawapan yang betul. [ 1 markah ]

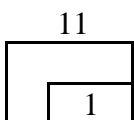
ialah nombor sebelum 10



- 11 Cari jumlah. [ 1 markah ]  
Berapakah 1 tambah 7?



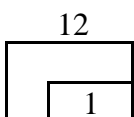
1 tambah 7 ialah



- 12 Tambahkan 7 dan 2 [ 1 markah ]



$$7 + 2 = \square$$



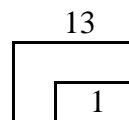
Mereka mempunyai sikat semuanya.

[Lihat Sebelah]  
**SULIT**

13 Isi tempat kosong dengan betul. [ 1 markah ]



adalah 1 lebih daripada 4

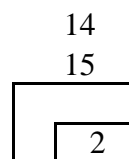


---

Gariskan jawapan yang betul. [ 2 markah ]

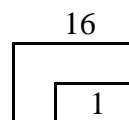

14 ( 7 , 8 , 9 ) adalah 1 lebih daripada 7.

15 1 lebih daripada ( 4 , 3 , 2 ) adalah 5.



---

16 Kira dan tulis dalam perkataan. [ 1 markah ]



17 Padankan dengan betul.

[ 1 markah ]

17

1

	<input type="text" value="0 + 3"/>
<input type="text" value="8"/>	<input type="text" value="2 + 6"/>
	<input type="text" value="5 + 4"/>

18 Kira dengan tertib menaik, tandakan (  $\checkmark$  )  
pada jawapan yang betul.

[ 1 markah ]

18

1

<input type="text" value="3, 4, 5, 7"/>	<input type="text"/>
<input type="text" value="6, 7, 8, 9"/>	<input type="text"/>

19 Selesaikan masalah di bawah.

[ 1 markah ]

Terdapat tiga ekor burung di atas sebatang dahan, datang empat ekor lagi bersebelahan. Berapakah jumlah burung di atas dahan itu?

$$3 + 4 = \boxed{\phantom{00}}$$

19

1

20 Kira tertib menurun dari 9 ke 3.

[ 1 markah ]

<input type="text"/>	<input type="text" value="8"/>	<input type="text" value="7"/>	<input type="text" value="6"/>	<input type="text" value="5"/>	<input type="text" value="4"/>	<input type="text" value="3"/>
----------------------	--------------------------------	--------------------------------	--------------------------------	--------------------------------	--------------------------------	--------------------------------

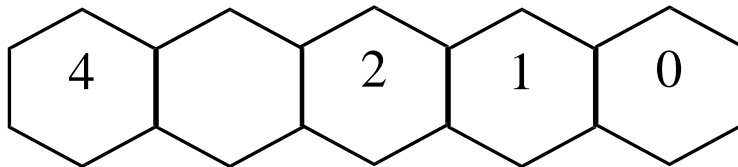
20

1

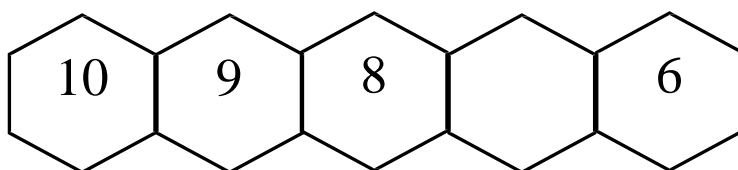
Tuliskan dari nombor 0 hingga 10 dalam turutan yang betul. Kira dalam tertib menurun nombor yang diberi.

[ 2 markah ]

21



22



Padankan yang berikut.

[ 2 markah ]

23 Lebih satu daripada 2 ialah

8

7

24 Tujuh, lebih satu ialah

3

21  
22

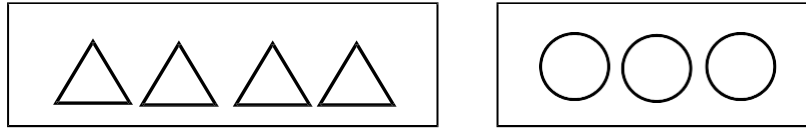
2

23  
24

2



- 25 Berdasarkan gambar, [ 1 markah ]  
Warnakan jawapan yang betul.

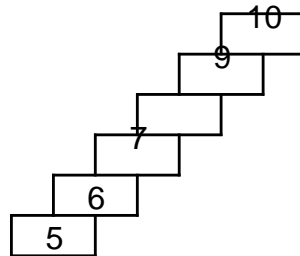


Segitiga lebih kurang daripada bulatan.

25

1
---


- 26 Tuliskan dari nombor 0 hingga 10 dalam susunan yang [ 1 markah ]  
betul. Kira dalam tertib menaik dari nombor diberi.



26

1
---


- 27 Warnakan nombor yang nilainya lebih kecil. [ 1 markah ]



27

1
---

- 28 Kira dan tuliskan dalam perkataan nombor. [ 1 markah ]



--

28

1
---

29 Isikan tempat kosong dengan nombor yang betul. [ 1 markah ]

$$3 + \square = 7$$

29

1
---

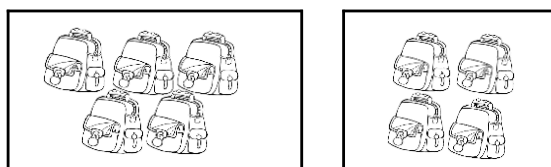
30 Kira dan tuliskan nombor dalam perkataan. [ 1 markah ]

$$\square + 8 = 9$$

30

1
---

31 Tuliskan jawapan yang betul. [ 2 markah ]

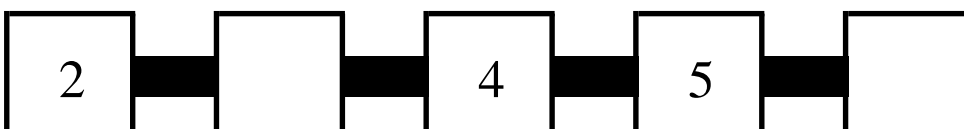


$$\square + 4 = \square$$

31

2
---

32 Isikan nombor yang tertinggal. [ 2 markah ]

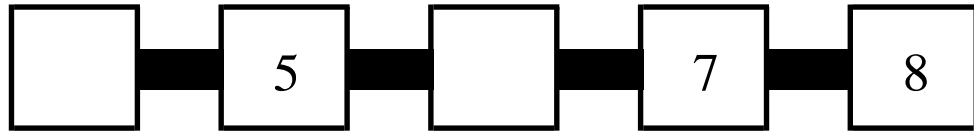


32

2
---

33 Isikan nombor yang tertinggal.

[ 2 markah ]

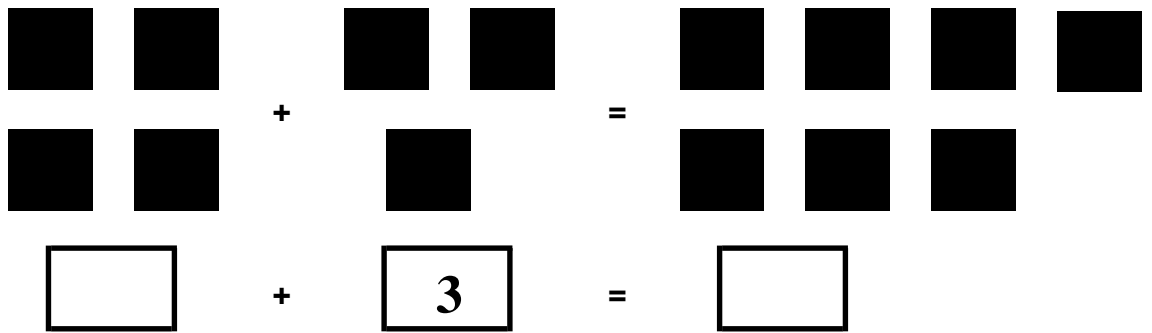


33

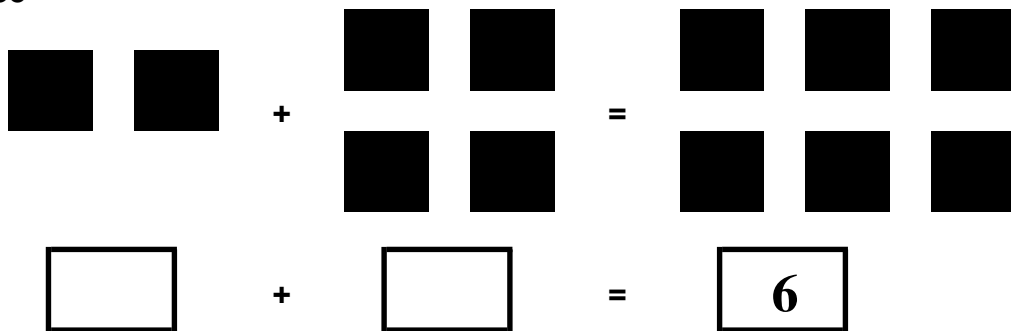
2
---

34 Tuliskan ayat matematik untuk penambahan.

[ 4 markah ]



35



34  
35

4
---

36 Selesaikan masalah di bawah.

[ 2 markah ]

ALINA	
MAY	

Siapa yang ada lebih pensil?

\_\_\_\_\_ ada lebih pensil daripada \_\_\_\_\_ [Lihat Sebelah]

36

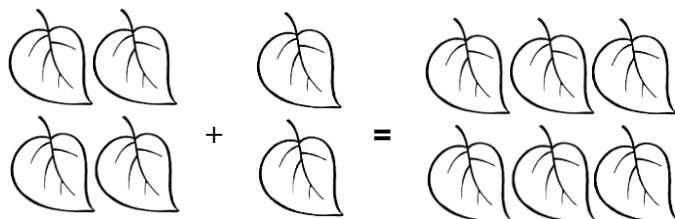
2
---

37 Jumlah 3 dan 5 ialah \_\_\_\_\_ [ 2 markah ]

38 Di atas meja ada 7 buah buku.  
Zaki meletakkan 2 buku lagi.  
Berapakah buku yang ada atas meja kesemuanya? [ 2 markah ]

39 \_\_\_\_\_ tambah tiga sama  
dengan tujuh. [ 2 markah ]

40 Tuliskan ayat matematik. [ 2 markah ]



+ 2 =

